



**MINISTÈRE
DE L'ÉDUCATION
NATIONALE
ET DE LA JEUNESSE**

*Liberté
Égalité
Fraternité*

Rapport du jury

Concours : CAPET externe et CAFEP-CAPET

Section : sciences industrielles de l'ingénieur

Option : ingénierie informatique

Session 2023

Rapport du jury présenté par : Pascale COSTA, inspectrice générale de l'éducation, du sport et de la recherche, Présidente du jury.

Sommaire

Avant-propos	3
Remerciements.....	4
Résultats statistiques	5
Épreuve écrite disciplinaire.....	6
A. Présentation de l'épreuve	6
B. Sujet	6
C. Éléments de correction	7
D. Commentaires du jury	18
E. Résultats	19
Épreuve écrite disciplinaire appliquée.....	20
A. Présentation de l'épreuve	20
B. Sujet	20
C. Éléments de correction	21
D. Commentaires du jury	32
E. Résultats	34
Épreuve de leçon.....	35
A. Présentation de l'épreuve	35
B. Déroulement de l'épreuve	35
C. Commentaires du jury	37
D. Résultats	42
Épreuve d'entretien	43
A. Présentation de l'épreuve	43
B. Déroulement de l'épreuve	43
C. Commentaires du jury	44
D. Ressources mobilisables	46
E. Résultats	46

Avant-propos

Depuis la session 2022, les épreuves de ce concours ont été modifiées ; leur définition est rappelée sur le site devenir enseignant :

<https://www.devenirenseignant.gouv.fr/cid158866/epreuves-capet-externe-cafep-capet-sii.html>

Les attentes du concours du Capet et du Cafep de sciences industrielles de l'ingénieur (SII) sont définies par l'arrêté du 25 janvier 2021 qui en fixe l'organisation. Les concours de recrutement d'enseignants n'ont pas pour seul objectif de valider les compétences scientifiques et technologiques des candidats ; ils doivent aussi valider les compétences professionnelles qui sont souhaitées par l'État employeur qui recrute des professeurs. L'excellence scientifique et la maîtrise disciplinaire sont indispensables pour présenter le concours, mais pour le réussir, les candidats doivent aussi faire preuve de qualités didactiques et pédagogiques et de bonnes aptitudes à communiquer.

Les deux épreuves d'admissibilité sont construites de manière à évaluer un spectre large de compétences scientifiques et technologiques : la première épreuve intitulée « épreuve disciplinaire » est spécifique à l'option choisie lors de l'inscription (option ingénierie des constructions, option ingénierie électrique, option ingénierie informatique et option ingénierie mécanique), la seconde intitulée « épreuve écrite disciplinaire appliquée » est commune aux quatre options.

Les deux épreuves d'admission sont complémentaires des épreuves d'admissibilité. La première épreuve, intitulée « leçon » est spécifique à l'option ; elle a pour objet la conception et l'animation d'une séance d'enseignement dans l'option choisie. Elle permet d'apprécier à la fois la maîtrise disciplinaire, la maîtrise de compétences pédagogiques et de compétences pratiques ainsi que la capacité du candidat à réfléchir aux enjeux scientifiques, technologiques, didactiques, épistémologiques, culturels et sociétaux que revêt l'enseignement du champ disciplinaire du concours. L'évaluation de cette épreuve s'appuie sur le référentiel des compétences professionnelles des métiers du professorat et de l'éducation (publié au BOEN du 25 juillet 2013). La seconde épreuve, intitulée « entretien » porte sur la motivation du candidat et son aptitude à se projeter dans le métier de professeur au sein du service public de l'éducation ; sa définition est commune à l'ensemble des concours externe de recrutement d'enseignants.

Ces épreuves d'admission, dont le coefficient total est le double de celui des épreuves d'admissibilité, ont eu une influence significative sur le classement final.

Les candidats et leurs formateurs sont invités à lire avec application les commentaires et conseils donnés dans ce rapport et dans ceux des sessions antérieures afin de bien appréhender les compétences ciblées. La préparation à ces épreuves commence dès l'inscription au concours.

Pour l'épreuve d'admission pratique, l'accès à Internet était autorisé afin de mettre les candidats dans les conditions du métier qu'ils envisagent d'exercer. Mais cela ne doit pas masquer le fait que la réflexion, la cohérence, l'appréciation du niveau des élèves et la précision pédagogique dans les explications sont des qualités précieuses pour un futur enseignant.

Dans toutes les épreuves, le jury attend des candidats une expression écrite et orale irréprochable. Le Capet/Cafep est un concours exigeant qui impose de la part des candidats un comportement et une présentation exemplaires. Le jury reste vigilant sur ce dernier aspect et invite les candidats à avoir une tenue adaptée aux circonstances particulières d'un concours de recrutement de cadres de catégorie A de la fonction publique.

55 postes étaient proposés pour la session 2023 de ce concours externe public et 4 postes pour le privé. Il a été impossible de pourvoir tous les postes pour le public : seuls 24 candidats ont été admis.

Si globalement, les candidats présents à cette session d'admission étaient bien préparés, l'admission n'a pu être prononcée pour ceux dont les prestations n'ont pas donné la garantie qu'ils étaient aptes à embrasser la carrière de professeur de sciences industrielles de l'ingénieur. Cela est regrettable dans la mesure où les besoins dans les établissements scolaires sont importants.

Pour conclure cet avant-propos, le jury souhaite que ce rapport soit une aide efficace aux futurs candidats. Tous sont invités à se l'approprier par une lecture attentive.

Remerciements

Le lycée Roosevelt de Reims a accueilli les épreuves d'admission de cette session 2023 des quatre options du Capet/Cafep externe section sciences industrielles de l'ingénieur.

Les membres du jury tiennent à remercier le proviseur du lycée et son adjointe, son directeur délégué aux formations professionnelles et technologiques, ses collaborateurs et l'ensemble des personnels pour la qualité de leur accueil et l'aide efficace apportée tout au long de l'organisation et du déroulement de ce concours qui a eu lieu dans d'excellentes conditions.

Les membres de jury ayant contribué à la rédaction de ce rapport ainsi que les concepteurs des sujets, tant pour les épreuves d'admissibilité que pour les épreuves d'admission, sont également tout particulièrement remerciés.

Résultats statistiques

CAPET externe public :

Session	Nombre de postes	Inscrits	Présents aux épreuves écrites	Admissibles	Présents aux épreuves orales	Admis
2019	61	270	90	70	57	39
2020	62	222	81	64	50	32
2021	60	199	75	60	52	39
2022	55	117	42	37	34	27
2023	55	138	52	45	37	24

CAFEP externe privé :

Session	Nombre de postes	Inscrits	Présents aux épreuves écrites	Admissibles	Présents aux épreuves orales	Admis
2019	3	68	25	8	7	3
2020	4	58	24	10	6	4
2021	4	67	31	10	8	4
2022	4	46	22	12	12	4
2023	4	46	20	12	12	4

Statistiques obtenues à l'admissibilité et à l'admission à la session 2023 :

		CAPET (public)	CAFEP (privé)
Admissibilité	Moyenne obtenue par le premier candidat admissible	13,05	12,1
	Moyenne obtenue par le dernier candidat admissible	5,7	9,6
	Moyenne des candidats admissibles	8,64	10,69
Admission	Moyenne obtenue par le premier candidat admis	15,52	14,86
	Moyenne obtenue par le dernier candidat admis	8,06	13,53
	Moyenne des candidats présents	9,60	11,42
	Écart-type des candidats présents	2,94	2,33

Épreuve écrite disciplinaire

A. Présentation de l'épreuve

Durée : 5 heures

Coefficient 2

L'épreuve, spécifique à l'option choisie, porte sur l'étude d'un système, d'un procédé ou d'une organisation.

Elle a pour but de vérifier que le candidat est capable, à partir de l'exploitation d'un dossier technique remis par le jury, de conduire une analyse critique de solutions technologiques et de mobiliser ses connaissances scientifiques et technologiques pour élaborer et exploiter les modèles de comportement permettant de quantifier les performances d'un système ou d'un processus lié à la spécialité et définir des solutions technologiques.

L'épreuve est notée sur 20. Une note globale égale ou inférieure à 5 est éliminatoire.

B. Sujet

Le sujet est disponible en téléchargement sur le site du ministère à l'adresse :

<https://www.devenirenseignant.gouv.fr/media/5990/download>

Le support de cette épreuve est un miniporteur professionnel de l'entreprise Hublex, servant au déplacement et au transport de petites charges. Il permet à un employé de se déplacer sans fatigue sur de longues distances, et de transporter avec lui son matériel ou des quantités limitées de marchandises. Il est conçu pour se déplacer également en autonomie afin de retourner à sa zone de stockage et de recharge.

<https://www.hublex.fr/fr/accessoires-miniporteur>



C. Éléments de correction

Question 1

On a une augmentation de 4km pour 5000 m² de plus, soit 12km en tout. A une vitesse de 4,5 km.h⁻¹ cela revient à : $12/4,5 = 2,67$ heures, soit environ 2h et 40 min par jour.

Question 2

A 10km/h, les 12 km ne prendront plus que : $12/10 = 1,2$ h soit environ 1h et 12 min. Donc le gain est de 1h et 28 min. On peut cependant supposer que certains tronçons ne pourront pas se faire à la vitesse maximale.

Il s'agit de l'exigence 1.3.2 : transport de charge tractée jusqu'à 100kg

Question 3

Il s'agit de permettre un retour autonome. Cela permet aux utilisateurs de ne pas avoir à ramener le miniporteur après avoir transporté la charge ou bien pour continuer leur déplacement après dans une autre zone de l'entreprise.

Cela suppose un placement optimisé du/des zones de stockage/rechargement.

Question 4

Dans le premier cas, l'utilisateur conduit manuellement le miniporteur avec les deux gâchettes.

Dans le second cas, les deux gâchettes ainsi que la carte guidon ne sont plus mises en œuvre. Le servo-moteur agira sur la direction, une caméra et des capteurs serviront à l'analyse de l'environnement.

Question 5

Une licence libre s'applique à une œuvre de l'esprit. L'auteur concède tous les droits ou une partie des droits que lui confère le droit d'auteur, en laissant au moins quatre droits considérés fondamentaux, soit pour un logiciel :

- usage du logiciel ;
- étude du logiciel pour en comprendre le fonctionnement ou l'adapter à ses besoins ;
- modification (amélioration, extension et transformation) ou incorporation du logiciel dans un logiciel dérivé ;
- redistribution du logiciel, c'est-à-dire sa diffusion à d'autres usagers, y compris commercialement.

Question 6

On extrait de la documentation que le système de repérage April Tag est utilisable dans un environnement inégalement éclairé, visible à de longues distances, précis sur la localisation : ce sont des atouts dans un lieu de type entrepôt.

Il s'agit du tag 10 qui permet de débiter la recherche de ligne et suivre la ligne bicolore trouvée

Question 7

La famille est TAG16h5 ce qui signifie :

Codée sur 16 bits, 4x4, avec une distance de Hamming de 5. Seulement 30 images sont possibles pour assurer une différence suffisante entre les images.

Question 8

Codé sur 16 bits : les 0 sont noirs et les 1 sont blancs. Le tag est comme une image matricielle de 4x4 à l'intérieur d'un cadre noir. D'où les lignes :

0010

0011

0001

1011

0b0010001100011011= 0x231b

Question 9

Ce tag se décode ainsi : 0b 0010 0011 1011 1111

Il ne diffère du précédent que de 3 bits (3 cases) il n'est donc pas identifié comme un tag de cette famille car la distance de Hamming doit être au moins de 5

Question 10

C'est un diagramme de classes. L'association est une agrégation.

Question 11

Cela sert à déclarer une variable du programme en dehors de la fonction qui sera modifiable depuis l'intérieur de la fonction, ce qui est le cas pour `tags_on_CAN` et `roi_april_index`. `img` est bien déclaré en dehors de la fonction, mais n'est pas modifiée par `april_tag_analysing()`, donc elle ne nécessite pas le mot clé `global`.

Question 12

```
def __init__(self, w, h, format, pixels) :  
    self.width=w  
    self.height=h  
    self.PIXEL_FORMAT=format  
self.data=pixels
```

Question 13

`find_april_tags()` renvoie une variable de type liste (ou encore tableau), contenant les tags trouvés dans la zone d'intérêt, soit 2 tags ici. `len(tags)=2`

`tags` contient 2 objets `apriltag`, en l'occurrence ici 2 fois le même tag n°13 correspondant à un emplacement de charge.

Question 14

Il faut identifier le retour de `find_april_tag ()`.

Id : voir document technique pour l'ID 11. (entrée dans la zone de charge)

ROI `april_index` = 0 car on est à gauche, tag `cy` = 78 pixel tag `cx`=41 pixel, rotation : 0

Donc `tags_on_CAN` vaut : `[[0, 11, 78,41, 0]]`

Question 15

(du DT5 :)

```
for tag in tags:  
# Append tag to the CAN buffer
```



```
tags_on_CAN.append([roi_april_index, tag.id(), tag.cy(), tag.cx(),
tag.decision_margin(), tag.rotation()*180/3.1415])
img.draw_rectangle(tag.rect(), color=(255,0,0))
```

Question 16

La condition est la longueur de l'objet `tags_on_CAN`, c'est-à-dire le nombre d'April Tag que l'on a détectés, c'est-à-dire 2 dans ce cas. On reste dans la boucle `while` tant qu'il est positif.

```
while(len(cam_analysing.tags_on_CAN) > 0) :
    tag = cam_analysing.tags_on_CAN[0]
    can.send_tag(tag[0], tag[1], tag[2], tag[3], tag[4])
    cam_analysing.tags_on_CAN.pop(0)
```

Pour quitter la boucle il faut donc que `tags_on_CAN` soit vide (on a envoyé tous les tags Aprils trouvés), on enlève donc le premier élément à chaque tour à l'aide de `pop[0]`

Question 17

`run()` appelle la recherche de tag dans une image. On bascule la région de gauche à droite pour capturer la deuxième partie de l'image, donc l'indice passe de 0 à 1

Question 18

La technologie des tags April permet bien de se situer dans l'espace et d'identifier des informations sur le parcours. Cependant la partie « suivi par retour de ligne » n'est pas étudiée, donc la réalisation n'est que partiellement vérifiée.

Question 19

La technologie employée est dite « Time of Flight ». La distance à l'obstacle est mesurée par calcul du temps de propagation du signal lumineux sur un aller-retour.

Question 20

Type Laser de classe 1. 940nm. Infra rouges. Non visible. Classe 1 donc non dangereux.

Question 21

Mémoire non volatile, ROM (Read Only Memory), RAM (Random Access Memory).

L'adresse est stockée dans une mémoire de type ROM ou non volatile qui ne s'efface pas lorsque le composant n'est plus alimenté.

Question 22

0x53 car l'adresse est codée sur 7bits + 1(R/W). En lecture, R/W = 1, donc l'adresse devient 01010011₍₂₎ = 0x53.

Question 23

Durée du bit = $1/400000 = 2,5\mu\text{s}$

Temps de transmission d'un octet = $11 \times 2,5 \cdot 10^{-6} = 27,5 \mu\text{s}$

11 car 8 bits, plus les conditions de START, de STOP et l'ACK.

Question 24

1 # Importation du « garbage collector »

3 # Importation des classes I2C et Pin du module pyb

4 # Lance un nettoyage de la mémoire

Cette partie de programme permet d'importer des classes à partir de bibliothèques définies dans Python. Cela évite de devoir nommer la bibliothèque à chaque utilisation de la classe. Par exemple, la classe Pin pourra être appelée sans écrire pyb.Pin à chaque fois.

Lors d'un import *, on importe toutes les classes ou fonctions sans peut-être en connaître le nom et on risque d'utiliser un nom déjà existant ailleurs.

La vitesse de chargement s'en trouve également réduite.

Question 25

0x29

Question 26

```
# obstacle.py
import gc
from utime import sleep_ms
from pyb import I2C, Pin
gc.collect()
from vl53l0x import VL53L0X
from can import offset_distance_front

# Objects (I2C, INT, XSHUT, VL53L0X)
i2c = I2C(2)
INT_DOWN = Pin('P6', Pin.IN)
INT_FRONT = Pin('P1', Pin.IN, pull=Pin.PULL_UP)
XSHUT_DOWN = Pin('P9', Pin.OUT_OD)
XSHUT_FRONT = Pin('P0', Pin.OUT_OD)
laser_down = VL53L0X(i2c, 0x52)
laser_front = VL53L0X(i2c, 0x52)
```

Question 27

La broche XSHUT du capteur bas est placée à un niveau logique 0, ce qui éteint le capteur.

Après une temporisation de 10ms, le capteur est rallumé en mettant la broche XSHUT à un niveau logique 1.

Question 28

XSHUT_FRONT.value (0)

Question 29

Commande : laser_down.set_address(0x30)

laser_down → objet

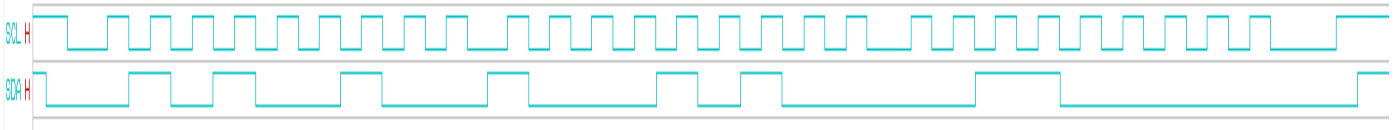
set_address → méthode

0x30 → argument

Question 30

0x52, 0x8A, 0x30

Question 31



Question 32

La lecture en mode différentiel permet de s'affranchir de l'altération du signal par la superposition d'un parasite. Le même parasite apparaît nécessairement sur les deux lignes à la fois car elles se situent dans le même environnement. C'est la différence des signaux qui est prise en compte, donc le résultat n'est pas altéré.

L'utilisation de paires torsadées permet de s'affranchir des émissions du câble en inversant à chaque torsade les vecteurs induction produits, ce qui les annule deux à deux. Elle permet également de réduire les perturbations extérieures en annulant par opposition les courants induits dans chaque boucle par un champ perturbateur.

Question 33

11bits. $2^{11} = 2048$ valeurs possibles.

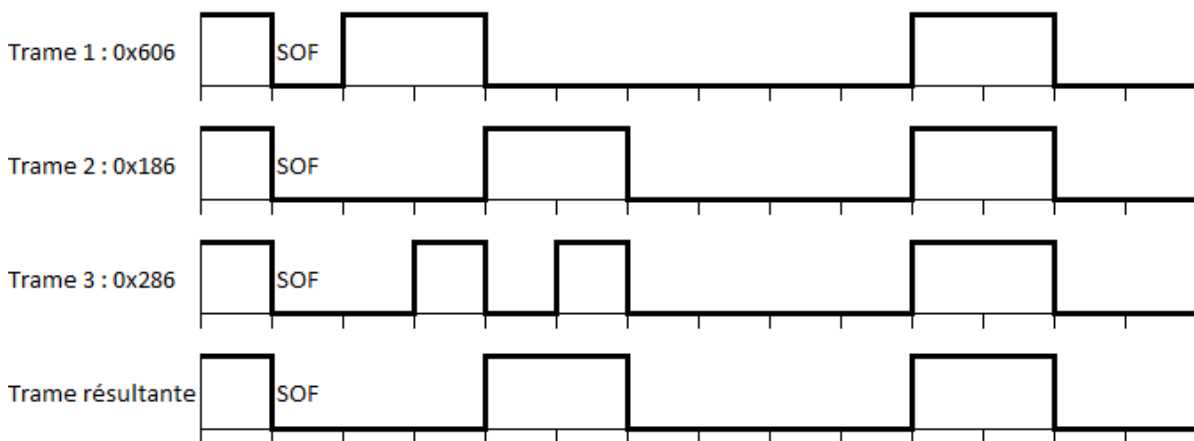
Question 34

8 octets = 64 bits

Question 35

La trame de données.

Question 36



La trame TPDO1 est prioritaire.

La trame prioritaire comporte les informations relatives à la détection d'obstacles et donc à la sécurité sur le trajet, elle doit être prioritaire.

Question 37

$0x186 < 0x286 < 0x606$

Un identifiant de petite valeur sera prioritaire face à un identifiant de valeur plus élevée.

Question 38

Il n'y a pas de fil d'horloge. L'émetteur et le récepteur ont leur propre horloge de fonctionnement

Question 39

10 bits dans le cas le plus défavorable : 5 '0' puis 5 '1'.

Question 40

La consigne est codée sur 16 bits signés. 100 = 0x0064

Complément à 2 : -100 = 0xFF9C

Header	DLC	Payload					
0x606	8	Byte 0			Bytes 1-2 (1)	Byte 3	Bytes 4-7 (1)
		bits 4-7	bits 2-3	bits 0-1	0x2000	-	0xFF9C
		2	0	0			
Data CAN		0x20			0x00 0x20	0x00	0x9C 0xFF 0x00 0x00

Question 41

0x186 (Transmit PDO) = 001 1000 0110

0x286 (Transmit PDO) = 010 1000 0110

0x606 (commande) = 110 0000 0110

& 0x00F = 000 0000 1111

Le masquage de 0x186 donne 0x006.

Le masquage de 0x286 donne 0x006.

Le masquage de 0x606 donne 0x006.

Le masque permet bien l'acceptation de toutes les trames.

Le F de 0x00F permet de s'en assurer, car seule la valeur 0x6 masquée par 0xF donne 6, valeur déterminant le nœud concerné.

Question 42

```

CRC_RG = 0; // initialize shift register

REPEAT
CRCNXT = NXTBIT EXOR CRC_RG(14);
CRC_RG(14:1) = CRC_RG(13:0); // shift left by
CRC_RG(0) = 0; // 1 position
IF CRCNXT THEN
    CRC_RG(14:0) = CRC_RG(14:0) EXOR (4599hex);
ENDIF
UNTIL (CRC SEQUENCE starts or there is an ERROR condition)

```

Question 43

Les capteurs VL53L0X permettent la détection et la transmission des informations par bus CAN permet le contrôle de la vitesse. L'exigence est réalisée.

Question 44

Les fichiers csv contiennent des données structurées en table. Le contenu est sous forme de champs de type texte, séparés par un séparateur (virgule, point virgule, tabulation...). La première ligne contient les attributs (titre des différents champs), puis chaque ligne contient un enregistrement donné.

Ils permettent d'effectuer des traitements en permettant des tris et sélection utilisant les champs attributs, par exemple une date donnée.

Question 45

Cela permet un traitement plus robuste lors du traitement de grandes quantités de données. Une base de données permet notamment un traitement plus efficace lorsque les données ont une relation entre elles, grâce à un langage SQL qui permet le croisement des données, et négocie les accès multi-utilisateurs.

Question 46

L'association EFFECTUE exprime les trajets effectués par les utilisateurs. Il peut y a voir un trajet avec au maximum 1 utilisateur (cardinalité Max) mais aussi avec 0 utilisateur quand le miniporteur est en mode autonomie, pour rentrer en zone de recharge par exemple.

Question 47

Cardinalité (0,N). Un utilisateur peut ne faire aucun trajet, comme il peut en effectuer plusieurs.

Question 48

C'est la clé étrangère pour la relation trajet. Chaque événement est associé à un trajet et un seul de la base de données, car ID_Tr est la clé primaire de la relation trajet.

Question 49

Les cardinalités en (0,1) et (1,1) se traduisent par l'inclusion d'une clé étrangère des relations en (0,n) ou (1,n)

TRAJET (ID_Tr : int, date : string, durée : int, distance :int, #TAG_RFID : string, #num. série : string)

Question 50

SELECT AVG(distance) FROM trajet

Question 51

Duree ou distance = 0

SELECT ID_Tr, date FROM T_extrait WHERE duree=0 ;

Question 52

364	20/04/2021
372	20/04/2021
373	20/04/2021

Question 53

SELECT E_extrait.msg, T_extrait.num_serie FROM E_extrait ID_Tr, JOIN T_extrait on T_extrait.ID_Tr=E_extrait.ID_Tr WHERE T_extrait.duree=0 ;

Question 54

La table trajet référence des clés étrangères (TAG RFID et Num série) pour chaque enregistrement. Il faut que les enregistrements de la table trajet comprenant le TAG RFID qu'on veut retirer soient d'abord enlevés de la table trajet avant de supprimer l'enregistrement correspondant dans Utilisateur. Sinon, des enregistrements de trajet se retrouveront sans clés étrangères existantes par ailleurs (contrainte de référence)

De même, la table évènement référence la clé étrangère #ID_Tr . il faut donc enlever les enregistrements correspondants dans évènement avant de les enlever dans trajet.

- 1 lister les ID_tr correspondants au TAG RFID que l'on veut retirer
- 2 supprimer les enregistrements dans évènement liés à cet ID_tr,
- 3 supprimer les enregistrements dans trajet liés à ce TAG_RFID
- 4 supprimer l'enregistrement dans la table utilisateur

Question 55

On peut détecter si un miniporteur particulier a des problèmes, au niveau de la batterie, des moteurs, et envoyer une personne sur place en cas de signes de faiblesse, avant une panne (et donc avant arrêt du service). On a la mise à disposition des informations utilisateurs .

Question 56

Les trames sont la requête DNS de la machine cliente et la réponse associée. Il s'agit d'obtenir l'adresse IP de la machine distante (ici le serveur de la plateforme Google Sites), en utilisant le protocole de résolution de nom de domaine.

Le protocole DNS fonctionne par interrogation récursive de serveurs DNS hiérarchisés, jusqu'à l'obtention de l'adresse IP correspondante, ici 142.250.178.142

Question 57

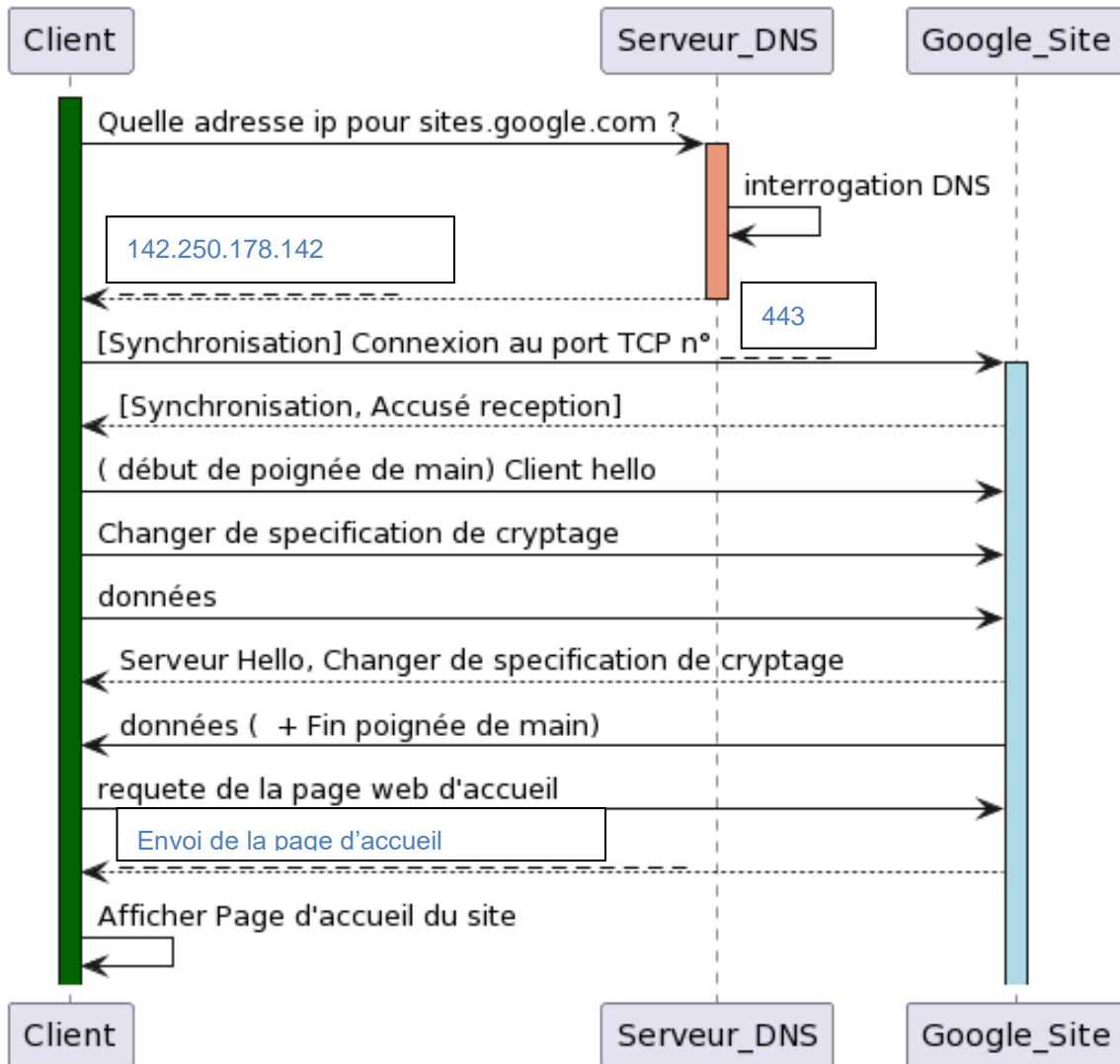
Le protocole utilisé est https, c'est-à-dire « http over tls », une version sécurisée où les données applicatives sont encryptées par tls. Les requêtes http ne sont donc pas lisibles, mais commencent bien une fois la poignée de main effectuée.

Question 58

Modèle OSI :

Application : <i>DNS</i>
Présentation (<i>TLS acceptable</i>)
Session : <i>TLS</i>
Transport : <i>TCP</i>
Réseau
Liaison
Physique

Question 59



Question 60

style_client.css : fichier de style. Contient la mise en forme de la page index.html , s'exécute coté client.

script.js : fichier en javascript qui contient les fonctions javascript mentionnées dans la page, par exemple valider_saisie(). S'exécute côté client.

auth.php : fichier en php appelé lorsque l'on soumet le formulaire. S'exécute côté serveur.

Question 61

```
1 function valider_saisie() {
2     var entree = 0;
3     var user = document.getElementById("user").value;
4     var mdp = document.getElementById("pwd").value;
5     if (user == "") { entree += 1 }
6     if (mdp == "") { entree += 2 }
7     switch (entree) {
8         case 0:
9             return true;
10            break;
11         case 1:
12            alert("Saisir le nom d'utilisateur ");
13            return false;
14            break;
15         case 2:
16            alert("Saisir le mot de passe ");
17            return false;
18            break;
19         case 3:
20            alert("Tous les champs doivent être saisis");
21            return false;
22            break;
23     }
24 }
```

C'est le cas 0, où `entree` vaut 0, car aucun des champs demandé n'est vide. La valeur retournée est alors `True`, ce qui donne la valeur `True` au champ `onsubmit` du formulaire dans la page HTML.

Question 62

Il s'agit d'un bloc php « try ... catch », qui permet de tenter une connexion à la base (on fait un `new PDO()`) et de récupérer une exception si il y a un problème.

Question 63

Elle permet de retourner du texte depuis le code php, qui va être interprété dans la page html : ici afficher en titre h2 « Durée des trajets enregistrés dans la base » ainsi que la valeur de la constante `DBNAME`.

Question 64

```
17 //préparer et exécuter la requête
18 $sql = "SELECT `ID_tr`, `duree`, `date` FROM `trajet`";
19 $req = $dbconnect->query($sql);
20
21 echo"<h2> Durées des trajets enregistrés dans la base".DBNAME."</h2>";
22
23 //Récupérer les données et les afficher
24 $donnees = $req->fetchAll();
25 foreach ($donnees as $resultat) {
26     echo "Identifiant : <strong>".$resultat['Id tr']."</strong><br/>";
27     echo " durée :<i>".$resultat['duree']."</i>";
28     echo " Jour : ".$resultat['date']."<br/>";
29 }
30 $req->closeCursor();
```


Question 65

Pour le client, pouvoir suivre le temps d'utilisation des miniporteurs par journée permet d'ajuster leur nombre, dans le cas d'un partage des miniporteurs entre plusieurs personnes, plusieurs activités, en 2x8.

Question 66

Le miniporteur doit améliorer les conditions de travail : le temps pour les employés qui font beaucoup de kilomètres ou transportent des charges moyennes doit être amélioré : c'est bien ce que remplit le miniporteur.

Il permet un retour autonome et en évitant les obstacles : il est adapté à un environnement d'entrepôt.

Il permet une maintenance et une surveillance à distance. Cela peut permettre d'ajuster le nombre de miniporteurs afin d'être au plus efficace.

D. Commentaires du jury

Il est rappelé aux candidats la nécessité de présenter sa copie d'une manière soignée et lisible. Par ailleurs, un grand nombre de réponses sont incomplètes car la lecture des questions n'a pas été assez attentive.

Il est attendu des candidats une justification et un regard critique sur leurs résultats, ainsi qu'une formulation argumentée des conclusions.

Partie 1 : Description générale

Partie traitée par 100% des candidats.

Cette première partie présente le système et sa problématique dans son contexte, en étudiant le modèle SysML (diagramme des exigences, diagramme de blocs), et en évaluant les bénéfices par des calculs simples, qui ont cependant posé des difficultés à plus de la moitié des candidats sur la notion de gain en temps. L'exploitation du diagramme des exigences doit se faire de manière rigoureuse et précise.

Partie 2 : Étude du déplacement dans l'environnement

Partie traitée par 100% des candidats.

Cette partie aborde le fonctionnement du système de repérage April Tag, basé sur un logiciel libre avec la reconnaissance d'une image codée sur 16 bits. Les caractéristiques de licence sont approximatives dans beaucoup de copies, mais le système semble bien compris. Cependant, l'analyse des programmes est peu maîtrisée et certaines fonctions très utilisées en Python ne sont pas connues. Python est pourtant le langage de programmation recommandé dans les programmes de pré bac, il est attendu une bonne compréhension de celui-ci pour des enseignants en ingénierie informatique.

La question sur le constructeur de classe a été traité correctement par seulement 15 % des candidats. L'exploitation du diagramme de classe est souvent incorrecte.

Partie 3 : Détection d'obstacle

Partie traitée par 98,7% des candidats.

Cette partie aborde le fonctionnement d'un capteur de type « time of flight » communiquant en I²C ainsi que la communication par bus CAN.

Des rappels concernant ces deux protocoles de communication étaient fournis dans les annexes, ainsi que la documentation du capteur.

Les deux protocoles ne sont pas maîtrisés et les questions relatives à ceux-ci peu traitées, malgré les informations fournies. Il est important de s'appuyer sur les annexes et d'être capable d'effectuer une recherche d'informations dans une documentation technique, même si celle-ci est en anglais. Des questions simples portant par exemple sur les types de mémoires n'ont été que très peu traitées et très imparfaitement.

Partie 4 : Étude de la collecte et de l'analyse des événements

Partie traitée par 77,3 % des candidats.

Cette partie vise à évaluer les connaissances des candidats sur les bases de données. Des exemples de requêtes étaient donnés dans les documents techniques. Il était possible de s'en inspirer pour plusieurs questions, mais beaucoup de copies ne les ont pas suivis. La partie modélisation a été quant à elle bien comprise par environ 20 % des candidats.

Partie 5 : Mise à disposition des informations utilisateurs

Partie traitée par 77,3 % des candidats.

Cette partie vise à évaluer les connaissances des candidats sur la mise en œuvre d'un serveur web : langages HTML et CSS.

Le modèle OSI, savoir fondamental, n'est pas connu de la plupart des candidats.

Les notions de serveur et de client sont mal maîtrisées.

L'interaction entre les différents langages pose également problème.

Partie 6 : Conclusion

Partie traitée par 48 % des candidats.

Il s'agissait de reprendre les conclusions des études du sujet. Ces questions peuvent être répondues en ayant compris le cheminement du sujet, même si tout n'a pas été traité. Nous encourageons les futurs candidats à répondre à ces conclusions.

E. Résultats

Les statistiques générales pour cette épreuve sont données ci-dessous :

	CAPET (public)	CAFEP (privé)
Nombre de copies	55	20
Moyenne	8,05 / 20	9,13 / 20
Note maximum	13,50 / 20	13,50 / 20
Écart type	2,83	3,52

Épreuve écrite disciplinaire appliquée

A. Présentation de l'épreuve

Durée : 5 heures
Coefficient 2

L'épreuve, commune à toutes les options, porte sur l'analyse et l'exploitation pédagogique d'un système pluri-technologique. Elle invite le candidat à la conception d'une séquence d'enseignement, à partir d'une problématique et d'un cahier des charges.

L'épreuve permet de vérifier :

- que le candidat est capable de mobiliser ses connaissances scientifiques et technologiques pour conduire une analyse systémique, élaborer et exploiter les modèles de comportement permettant de quantifier les performances d'un système pluri-technologique des points de vue de la matière, de l'énergie et/ou de l'information, afin de valider tout ou partie de la réponse au besoin exprimé par un cahier des charges ;
- qu'il est capable d'élaborer tout ou partie de l'organisation d'une séquence pédagogique ainsi que les documents techniques et pédagogiques associés (documents professeurs, documents fournis aux élèves, éléments d'évaluation).

Les productions pédagogiques attendues sont relatives à une séquence d'enseignement portant sur les programmes de collège ou de lycée.

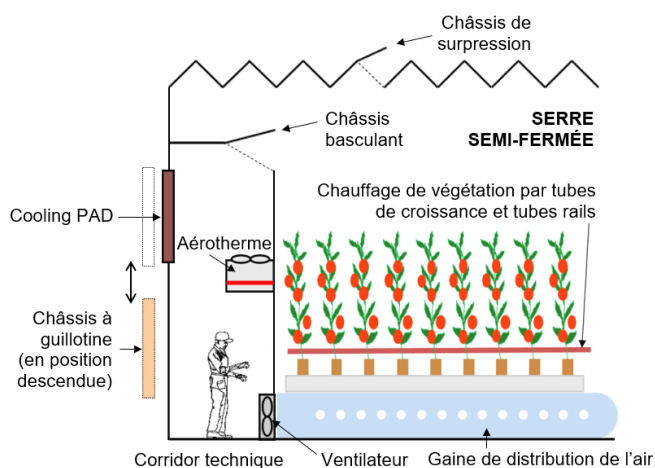
L'épreuve est notée sur 20. Une note globale égale ou inférieure à 5 est éliminatoire.

B. Sujet

Le sujet est disponible en téléchargement sur le site du ministère à l'adresse :

<https://www.devenirenseignant.gouv.fr/media/5981/download>

Depuis quinze ans, un nouveau concept de serre s'est développé en France : la serre semi-fermée. Plusieurs modèles de serres ont été développés par les différents constructeurs mais actuellement une version standard est proposée. Elle est caractérisée par un système de traitement d'air piloté dont le rôle est d'homogénéiser le climat de la serre en évitant de forts écarts de température et d'hygrométrie.



Ce système comprend un corridor technique, couloir occupant toute la longueur de la serre et permettant les opérations suivantes :

- réchauffer l'air via des aérothermes (échangeurs thermiques air / eau) installés en hauteur dans le corridor ;
- distribuer et brasser l'air dans la serre au moyen de ventilateurs et de gaines de distribution perforées et placées sous les tubes de chauffage d'eau situés dans la végétation ;
- refroidir et humidifier l'air extérieur en le faisant circuler au travers de panneaux de refroidissement par évaporation, appelés Cooling PAD, positionnés en façade du corridor et humidifiés en continu ;
- injecter du CO₂ dans la serre pour améliorer le rendement photosynthétique (la distribution du CO₂ n'est pas représentée sur le schéma de principe).

Problématique du sujet

L'étude porte sur le système de traitement d'air piloté qui équipe les deux serres semi-fermées du Mas Blanc à Alenya dans les Pyrénées-Orientales. Il répond à la problématique générale :

« Créer dans la serre un climat de croissance optimal pour la tomate avec une utilisation rationnelle de l'énergie et de l'eau. »

Le système étudié doit remplir plusieurs exigences décrites dans le diagramme partiel des exigences notamment :

- de résister aux chargements climatiques et d'exploitation ;
- de diffuser dans la serre l'air extérieur refroidi ou l'air intérieur réchauffé ;
- de gérer la surpression et d'évacuer l'air chaud en toiture ;
- de rafraîchir et humidifier l'air de la serre.

Les objectifs de l'étude sont de :

- valider les solutions techniques envisagées pour satisfaire ces exigences et de vérifier que le système répond à la problématique générale ;
- conduire un projet pluridisciplinaire à partir de la visite de la serre au sein du collège Paul Langevin (66200 Elne).

C. Éléments de correction

Question 1

- Organisation générale du projet, temporalité, moyens...
- Connaissances disciplinaires travaillées
- Modalités de travail en équipe

Question 2

Niveaux de collaboration :

- 1- le projet est support au cours du professeur d'anglais
- 2- des collaborations sont construites entre les contenus disciplinaires (sciences et anglais) tout au long du projet. Exemple, notice d'usage en anglais d'un système présent dans la serre, étudiée lors de la visite
- 3- suite à cette visite, des interactions entre les professeurs ponctuées de co-enseignement et des séquences où l'anglais est intégré à la démarche scientifique d'investigation.

Question 3

- Poutre au vent de la toiture : elle permet de contreventer la toiture et de transmettre les efforts vers les poteaux puis les fondations.
- Palée de stabilité / croix de Saint-André : elles permettent de contreventer la structure vis-à-vis du vent, de la rigidifier et de limiter les déplacements horizontaux. Elles stabilisent longitudinalement la structure. Elles font transiter les efforts horizontaux jusqu'aux fondations.

Question 4

Barre AD en compression, barre BC en traction

Question 5

Surface de toiture reprise par un poteau courant : $9 \times 4,5 = 40,5 \text{ m}^2$

Poutre courante de longueur 9 m

Charges permanentes :

- Poutre courante : $111 \text{ N}\cdot\text{m}^{-1}$ sur la longueur de la poutre
- Cultures et gouttières : $(400 + 150) \text{ N}\cdot\text{m}^{-2}$ sur la surface reprise par un poteau courant
- $G = [111 \times 9 + (400 + 150) \times 4,5 \times 9] \times 10^{-3} = 23,28 \text{ kN}$

Charge climatique :

- Neige $S = 638 \times 4,5 \times 9 \times 10^{-3} = 25,84 \text{ kN}$

Combinaison d'actions à prendre en compte : $1,35 \times G + 1,5 \times S$

- $1,35 \times 23,28 + 1,5 \times 25,84 = 70.2 \text{ kN}$ en tête de poteau.

Question 6

- Section du poteau : 1696 mm^2
- Acier S235 donc limite élastique $f_y = 235 \text{ MPa}$
- Effort maxi de compression : $F_{\text{max}} = 398,6 \text{ kN}$
- Effort ponctuel question précédente : $F = 70.2 \text{ kN}$
- Donc répond au cahier des charges

Question 7

- La prise en compte du flambement se traduit par une augmentation de l'inertie de la section
- Risque de chocs potentiels
- Charges exceptionnelles (robot de nettoyage...)
- Les contraintes liées aux assemblages

Question 8

Le candidat s'appuie sur la démarche d'investigation et/ou de résolution de problème respectant la contextualisation d'une situation problème, l'investigation ou la résolution du problème et la structuration des connaissances auprès des élèves.

Une activité expérimentale est proposée (mesure de flèche sur une poutre encastree à ses deux extrémités et chargée en son milieu, calcul de masse à partir d'un logiciel de simulation, ...).

Question 9

Compétences travaillées (annexe 8 (1/4))

Pratiquer des démarches scientifiques et technologiques :

- Imaginer, synthétiser, formaliser et respecter une procédure, un protocole.
- Mesurer des grandeurs de manière directe ou indirecte.
- Rechercher des solutions techniques à un problème posé, expliciter ses choix et les communiquer en argumentant.
- Participer à l'organisation et au déroulement de projets.

Mobiliser des outils numériques

- Simuler numériquement la structure et/ou le comportement d'un objet.
(s'il est fait référence à une simulation numérique dans l'activité proposée)

Compétences associées (annexe 8)

- Imaginer, synthétiser et formaliser une procédure, un protocole.
- Utiliser une modélisation pour comprendre, formaliser, partager, construire, investiguer, prouver.

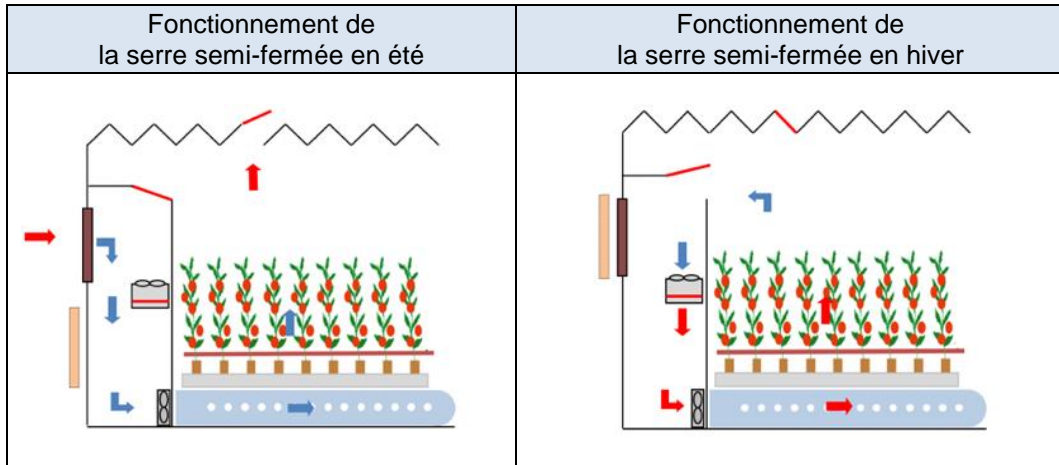
Connaissances :

- Besoin, contraintes, normalisation.
- Notions d'écart entre les attentes fixées par le cahier des charges et les résultats de l'expérimentation.
- Outils de description d'un fonctionnement, d'une structure et d'un comportement
- Procédure protocoles

Autres propositions acceptées si elles sont justifiées et appartiennent aux trois attendus de fin de cycle suivants :

- Imaginer des solutions en réponse aux besoins, matérialiser des idées en intégrant une dimension design.
- Analyser le fonctionnement et la structure d'un objet.
- Utiliser une modélisation et simuler le comportement d'un objet.

Question 10



Question 11

La plage de variation du taux de renouvellement d'air est réglable de 2 volumes de serre·h⁻¹ en hiver jusqu'à 10,5 volumes de serre·h⁻¹ en été.

Le volume de la serre étant de 137 447 m³, on en déduit que la plage de variation s'étend de 274 894 m³·h⁻¹ à 1 443 193 (ou 1 443 194 m³·h⁻¹)

Question 12

D'après l'indice de multiplicité, le nombre total de ventilateurs est 102.

Question 13

En été, pour atteindre le taux maximal de renouvellement d'air exigé, les 102 ventilateurs fonctionnent et délivrent chacun le même débit d'air :

$$q_{v\text{-maxi}} = 1\,443\,193 \text{ ou } 1\,443\,194 / 102 = 14\,149 \text{ m}^3 \cdot \text{h}^{-1}$$

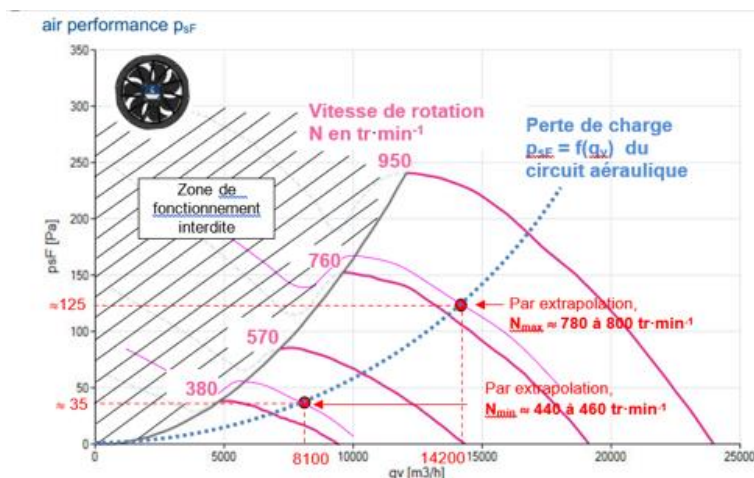
En hiver, pour atteindre le taux maximal de renouvellement d'air exigé tout en réduisant la consommation énergétique électrique, seuls 102 / 3 = 34 ventilateurs fonctionnent et délivrent chacun le même débit d'air :

$$q_{v\text{-mini}} = 274\,893 / 34 = 8\,085 \text{ m}^3 \cdot \text{h}^{-1}$$

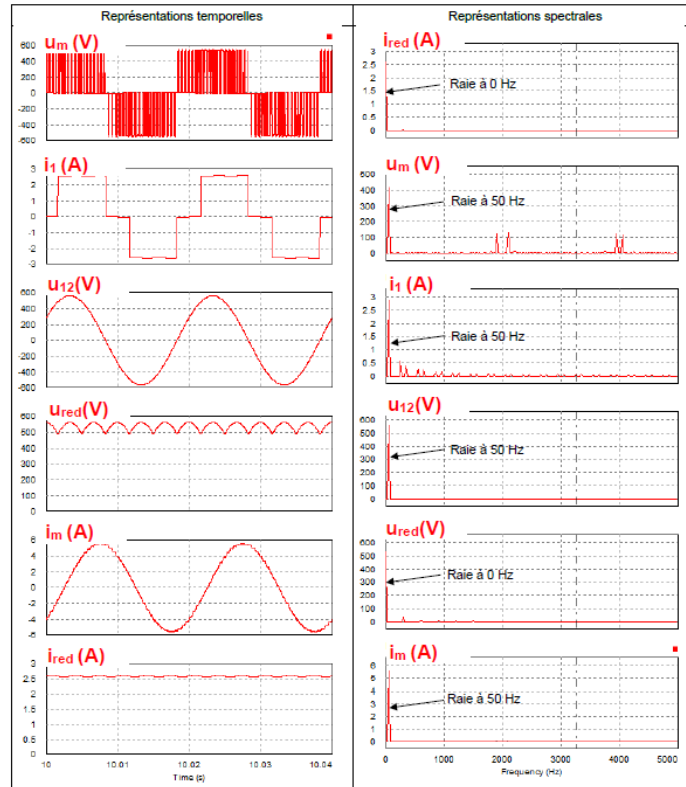
Question 14

Ces valeurs restent inférieures au débit maximal d'air dans les gaines : 16 286 m³·h⁻¹.

Question 15



Question 16



Question 17

Cette technique permet d'éliminer les premiers harmoniques des tensions statoriques. Les enroulements du moteur se comportant comme des filtres passe-bas, les **courants statoriques appelés sont quasiment sinusoïdaux** (ce qui assure une rotation régulière et sans à-coups et limite les échauffements).

Question 18

En considérant que le glissement est négligeable au point nominal, il vient :

Nombre de paires de pôles p : $N_s \sim N_n = \frac{60 \cdot f}{p} \Rightarrow p \sim \frac{60 \cdot f}{N_n} = \frac{60 \cdot 50}{950} = 3,16$ et entier donc **$p = 3$**

Vitesse de synchronisme : $N_s = \frac{60 \cdot f}{p} = \frac{60 \cdot 50}{3} = \mathbf{1000 \text{ tr. min}^{-1}}$

Question 19

Si on raisonne pour $f = 50 \text{ Hz}$, le coefficient directeur du segment de droite est :

$$a = \frac{0 - 16}{N_s(50 \text{ Hz}) - 950} = \frac{-16}{1000 - 950} = \mathbf{-0,32 \frac{\text{Nm}}{\text{tr. min}^{-1}}}$$

d'où l'équation : $C = a \cdot N + b$ avec $C = 0$ si $N = N_s$ d'où $b = -a \cdot N_s$

Par conséquent : $C = 0,32 \cdot (N_s - N)$

Comme $N_s = \frac{60 \cdot f}{p}$, il vient : $C = 0,32 \cdot \left(\frac{60 \cdot f}{p} - N \right)$

Question 20

En régime établi, $C = 0,32 \cdot \left(\frac{60 \cdot f}{p} - N \right) = 1,77 \cdot 10^{-5} \cdot N^2$

soit $f = \left(\frac{1,77 \cdot 10^{-5} N^2}{0,32} + N \right) \cdot \frac{p}{60}$

Valeur minimale hiver : $N = 450 \text{ tr. min}^{-1} \Rightarrow \mathbf{f = 23,1 \text{ Hz}}$

Valeur maximale été : $N = 800 \text{ tr. min}^{-1} \Rightarrow \mathbf{f = 41,8 \text{ Hz}}$

Question 21

	Valeur minimale (hiver)	Valeur maximale (été)
Taux de renouvellement d'air en volumes de serre h ⁻¹ (question 11)	2	10,5
Taux de renouvellement d'air en m ³ .h ⁻¹ (question 11)	274 894	1 443 193(4)
Nombre de ventilateurs en fonctionnement (question 13)	34	102
Débit d'air des ventilateurs en fonctionnement en m ³ .h ⁻¹	8100	14200
Vitesse de rotation des ventilateurs en fonctionnement en tr.min ⁻¹	450	800
Fréquences d'alimentation f des MAS (en Hz) (question 20)	23,1 Hz	41,8 Hz

Question 22

Si la communication s'effectue via le RS232, il ne peut y avoir dans ce cas qu'un seul maître et qu'un seul esclave et la distance est insuffisante. Par contre, si la communication s'effectue via le bus RS485 ou le bus RS422, on peut avoir plusieurs esclaves (32 pour RS 485 contre 10 pour RS 422).

On privilégie le bus RS 485 pour le nombre de récepteurs et le nombre de fils réduit (⇒coût plus faible et diminution de la complexité de câblage). Il nécessitera des répéteurs pour étendre à 51 le nombre d'esclaves par corridor.

Question 23

Trame émise par la passerelle (maître) : 00 06 0F A0 01 A2 22 C0

Adresse de l'esclave : 00 (diffusion ou « broadcast » en anglo-saxon)

Fonction : 06 (écriture d'un mot)

Donnée : 0F A0 01 A2 ou 01 A2 (valeur du mot)

0F A0 (adresse du registre d'écriture) et 01 A2 (valeur du mot)

CRC : 22 C0 (CRC en ligne :

http://www.sunshine2k.de/coding/javascript/crc/crc_js.html)

Question 24

La consigne de fréquence envoyée à tous les modulateurs d'énergie est :

$$01 A2 = 1 \times 16^2 + 10 \times 16^1 + 2 = 418 / 10 = \boxed{41,8 \text{ Hz}}$$

Tous les ventilateurs vont donc tourner à 800 tr.min⁻¹ d'après les résultats précédents.

Question 25

On peut lire ce message lors d'un fonctionnement en été avec un taux maximal de renouvellement d'air (voir nombre de ventilateurs en fonctionnement et vitesse de rotation dans le tableau de synthèse).

Question 26

Liste : poste serveur, postes client, routeur, switch (commutateur), passerelle, câbles réseau RJ45, routeur WIFI.

Activités proposées :

- agencer les composants de la structure matérielle du réseau à l'aide de symbole dans un schéma
- tracer la topographie du réseau de la serre semi-fermée
- identifier la circulation du flux d'information entre deux éléments du réseau

Question 27

Questions de structure (réponses détaillées)

Q1/ Qu'est-ce qu'un réseau ?

a/ La liaison entre des ordinateurs par câbles uniquement

b/ Pouvoir aller sur Internet

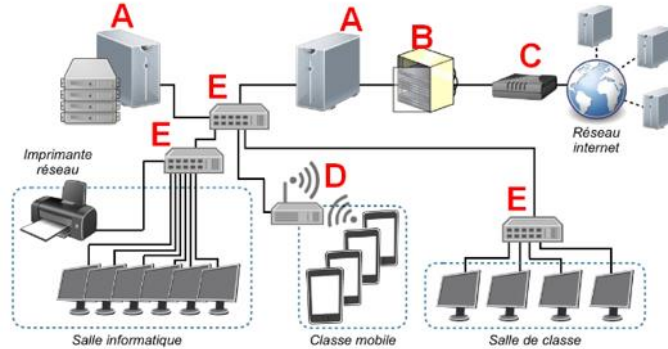
c/ La liaison entre des ordinateurs filaire ou non filaire (bonne réponse)

d/ Avoir un serveur pour s'y connecter

Q2/ Le boîtier auquel sont reliés les câbles réseau des ordinateurs s'appelle :

- a/ Modem routeur
- b/ table de mixage
- c/ boîte de dérivation
- d/ passerelle
- e/ switch (bonne réponse)**

On donne la structure d'un réseau :



Q3/ Questions multiples : Les éléments A à E sont :

Serveur, baie de brassage, modem, routeur principal, data center,

Q4/ Sur le schéma, le chemin d'une image prise par une tablette de la classe mobile envoyée vers la salle de classe, circule dans le réseau LAN en suivant le chemin suivant :

- a/ D E E
- b/ D E A E E**

Question 28

- Imaginer des solutions en réponse aux besoins (annexe 8 (2/4))
- Analyser le fonctionnement et la structure d'un objet (annexe (8) (3/4))
- Comprendre le fonctionnement d'un réseau informatique (annexe 8 (4/4))
- Écrire, mettre au point et exécuter un programme (annexe 8 (4/4))

Notions d'algorithmes et de programmes, variable informatique..., boucles, systèmes embarqués sont des connaissances

(À ne pas confondre avec compétences : analyser, écrire...)

Question 29

Réducteur de type « roue et vis sans fin autobloquant » à denture hélicoïdale (voir Annexe 7).
Caractéristique : Système irréversible, fonction sécurité anti-retour.

Question 30

Dans la direction $\overrightarrow{AO_0}$ ou $+\vec{x}_0$. Effort de tirage.

Question 31

$$\sin \alpha = \frac{H_{ouv}}{L_3} \Rightarrow \boxed{H_{ouv} = 2 \cdot L_3 \cdot \sin \alpha} \Rightarrow \boxed{H_{ouv} = 0,938 \text{ m}}$$

Question 32

$$\Delta x = 1750 - 880 = \boxed{870 \text{ mm}} \text{ (861,8 mm précisément)}$$
$$V = |\dot{x}(t)|_{\text{moy}} = \frac{0,87}{180} = \boxed{4,83 \cdot 10^{-3} \text{ m} \cdot \text{s}^{-1}}$$

Question 33

$V = 4,83 \cdot 10^{-3} \text{ m} \cdot \text{s}^{-1}$, vitesse de déplacement de la crémaillère.

Le pignon d'entraînement de la crémaillère a un diamètre D_3 de 44 mm soit 0,044 m (voir figure 17).

$$\omega_r = \frac{2 \cdot V}{D_3} = \frac{2 \cdot 4,83 \cdot 10^{-3}}{0,044} = 0,2195 \approx \mathbf{0,22 \text{ rad} \cdot \text{s}^{-1}}$$

$$N_r = \frac{\omega_r \cdot 60}{2\pi} = \frac{0,22 \cdot 60}{2\pi} = \mathbf{2,1 \text{ tr} \cdot \text{min}^{-1}}$$

$$N_m = N_r \cdot 2,76 = \mathbf{5,79 \text{ tr} \cdot \text{min}^{-1}}$$

$$\omega_m = \frac{2 \cdot \pi \cdot N_m}{60} = \mathbf{0,6 \text{ rad} \cdot \text{s}^{-1}}$$

Question 33

$$V = 4,83 \cdot 10^{-3} \text{ m} \cdot \text{s}^{-1}$$

$$\omega_r = 0,22 \text{ rad} \cdot \text{s}^{-1}$$

$$N_r = 2,1 \text{ tr} \cdot \text{min}^{-1}$$

$$\omega_m = 0,6 \text{ rad} \cdot \text{s}^{-1}$$

$$N_m = 5,79 \text{ tr} \cdot \text{min}^{-1}$$

Question 34

$$\text{Action de la pesanteur sur (3) en G : } \left\{ T_{\text{pes} \rightarrow 3} \right\} = \left\{ \begin{array}{l} -m_3 g \vec{y}_0 \\ \vec{0} \end{array} \right\}_{(\vec{x}_0, \vec{y}_0, \vec{z}_0)}$$

$$\text{Action de (0) sur (3) en C : } \left\{ T_{0 \rightarrow 3} \right\} = \left\{ \begin{array}{l} \vec{C}_{0 \rightarrow 3} = X_{03} \vec{x}_0 + Y_{03} \vec{y}_0 \\ \vec{0} \end{array} \right\}_{(\vec{x}_0, \vec{y}_0, \vec{z}_0)}$$

$$\text{Action de (2) sur (3) en B : } \left\{ T_{2 \rightarrow 3} \right\} = \left\{ \begin{array}{l} \vec{B}_{2 \rightarrow 3} = X_{23} \vec{x}_2 \\ \vec{0} \end{array} \right\}_{(\vec{x}_2, \vec{y}_2, \vec{z}_2)}$$

Question 35

Application du théorème du moment statique au point C.

$$\begin{aligned} \sum \vec{M}_{C, \vec{3} \rightarrow 3} &= \vec{CG} \wedge (-m_3 g \vec{y}_0) + \vec{CB} \wedge X_{23} \vec{x}_2 = \vec{0} \\ \Rightarrow \frac{L_3}{2} \vec{x}_3 \wedge (-m_3 g \vec{y}_0) + L_3 \vec{x}_3 \wedge X_{23} \vec{x}_2 &= \vec{0} \\ \frac{L_3}{2} (-m_3 g \cos \alpha) \vec{z}_0 + L_3 X_{23} \sin(\beta - \alpha) \vec{z}_0 &= \vec{0} \Rightarrow X_{23} = \frac{m_3 g \cos \alpha}{2 \cdot \sin(\beta - \alpha)} \end{aligned}$$

Question 36

D'après le théorème de la résultante statique appliqué au solide (2) isolé : $\sum \vec{F}_{\vec{3} \rightarrow 3} = \vec{0}$

$$\vec{A}_{1 \rightarrow 2} + \vec{B}_{3 \rightarrow 2} = \vec{A}_{1 \rightarrow 2} - \vec{B}_{2 \rightarrow 3} = \vec{0} \Rightarrow \vec{A}_{1 \rightarrow 2} = \vec{B}_{2 \rightarrow 3} = X_{23} \vec{x}_2$$
Question 37

$F_T = 240 \text{ N}$ pour $\alpha = -8^\circ$.

Question 38

Tube « push-pull » 1 entraîne 11 châssis et le 2 en entraîne 10.

$$F_{1\max} = 240 \cdot 11 = \mathbf{2640 \text{ N}}$$

$$F_{2\max} = 240 \cdot 10 = \mathbf{2400 \text{ N}}$$

Question 38

$$F_{1\max} = 2640 \dots \text{ N}$$

$$F_{2\max} = 2400 \dots \text{ N}$$

Question 39

Le pignon d'entraînement de la crémaillère a un diamètre D_3 de 44 mm soit 0,044 m (voir figure 17).

$$C_{r1\max} = \frac{D_3}{2} \cdot F_{1\max} = \frac{0,044}{2} \cdot 2640 = 58,08 \approx 58 \text{ N} \cdot \text{m}$$

$$C_{r2\max} = \frac{D_3}{2} \cdot F_{2\max} = \frac{0,044}{2} \cdot 2400 = 52,8 \text{ N} \cdot \text{m}$$

$$C_{1\max} = \frac{C_{31}}{2,76} = \frac{58}{2,76} = 21,01 \approx 21 \text{ N} \cdot \text{m}$$

$$C_{2\max} = \frac{C_{32}}{2,76} = \frac{52,8}{2,76} = 19,13 \text{ N} \cdot \text{m}$$

$$C_{M\max} = C_{1\max} + C_{2\max} = 21 + 19,13 = 40,13 \text{ N} \cdot \text{m}$$

Question 39

$$C_{r1\max} = 58,08 \text{ N} \cdot \text{m}$$

$$C_{r2\max} = 52,8 \text{ N} \cdot \text{m}$$

$$C_{1\max} = 21 \text{ N} \cdot \text{m}$$

$$C_{2\max} = 19,1 \text{ N} \cdot \text{m}$$

$$C_{M\max} = 40,13 \text{ N} \cdot \text{m}$$

Question 40

Q33 : Vitesse de rotation du moteur : $5,79 \text{ tr}\cdot\text{min}^{-1} < 6 \text{ tr}\cdot\text{min}^{-1}$, validé

Q39 : Couple max moteur : $40,1 \text{ N}\cdot\text{m} < 120 \text{ N}\cdot\text{m}$, validé.

Question 41

Analyser : analyser les mouvements, les trajectoires de l'ouvrant

Modéliser : modéliser des solutions techniques de l'ouvrant

Simuler : simuler le fonctionnement de tout ou partie de l'ouvrant

Concevoir : concevoir une solution technique d'un bloc fonctionnel de l'ouvrant

Prototyper : prototyper une solution technique répondant à une exigence technique de l'ouvrant

Communiquer : décrire à l'aide de SysML et/ou schémas croquis une solution technique.

Question 42

- Identifier le problème
- Identifier les contraintes
- Proposer des solutions à l'aide d'un croquis
- Analyse des propositions : donner les avantages et inconvénients de chaque solution
- Choisir une solution
- Tester
- Communiquer

Question 43

Exemples :

Modalité temporelle : temps de travail individuel et en groupe

- les élèves dans une première phase répondent individuellement à une série de question autour de l'ouvrant puis sont amenés par un travail de groupe à concevoir une solution technique
- un moment collectif autour de la serre expérimentale du collège permet d'installer la solution retenue par la classe

Modalité spatiale : regroupement en îlots, travail en zone de fabrication, travail en zone de TP sur maquette didactisée

- dans un premier temps, les élèves travaillent par îlot puis sont amenés à prototyper leurs solutions techniques et les adapter aux serres didactisées disponibles

Question 44

Le candidat présente des moyens présents dans le laboratoire de technologie tels que :

- machine à commande numérique (centres d'usinage, imprimante 3D, scanner 3D),
- logiciels de numérisation 3D (modeleur 3D, logiciel de simulation multiphysique) et/ou de programmation (graphique ou textuel)
- moyens de prototypage d'un système programmable (capteurs, actionneurs, cartes programmables, connectique)
- outils de communication : textuel, graphique ou visuel

Question 45

La grandeur physique asservie est la position angulaire α des châssis de surpression.

Question 46

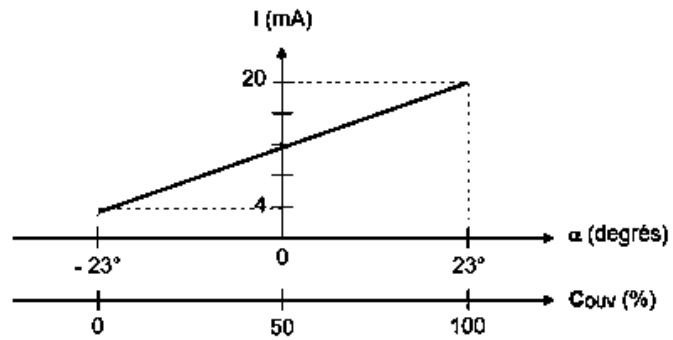
Une rupture de ligne ou une panne de courant donnent l voisin de zéro qui devient alors un indice de surveillance.

Question 47

Relation :

$$I = (16/46) \cdot \alpha + 12 = (8/23) \cdot \alpha + 12$$

$$I = 0,347 \cdot \alpha + 12$$



Question 48

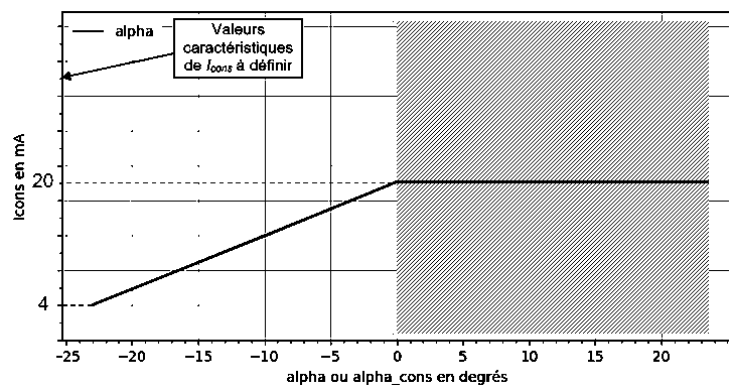
C_{OUV}	25%	50%	75%	100%
ϵ_{α}	-1,8°	-3°	-2,6°	0°

Question 49

L'erreur maximale est atteinte pour $C_{OUV} = 50\%$ ($\alpha_{cons} = 0^\circ$) et est estimée en valeur absolue à 3° . L'exigence de positionnement angulaire des châssis de surpression n'est pas satisfaite car $3^\circ > 0,5^\circ$. Ceci reste vrai également pour une large plage de variation de C_{OUV} .

Question 50

Pour α compris entre -23° ($C_{OUV} = 0\%$) et 0° ($C_{COUV} = 100\%$), les courbes $I_{cons} = f(\alpha_{cons})$ et $I_{cons} = g(\alpha)$ sont pratiquement confondues. L'erreur maximale de positionnement angulaire des châssis de surpression ne semble pas dépasser $0,5^\circ$ ($0,3^\circ$ maximum en simulation). L'exigence $I_d = '60'$ est donc pleinement satisfaite.



Question 51

6 boites de base de prototypage électronique (type Arduino, microbit...)

Flux d'information (chaîne d'information = acquérir, traiter, communiquer)

- Différents types de capteurs analogiques, logiques, tout ou rien...
- Cd'acquisition

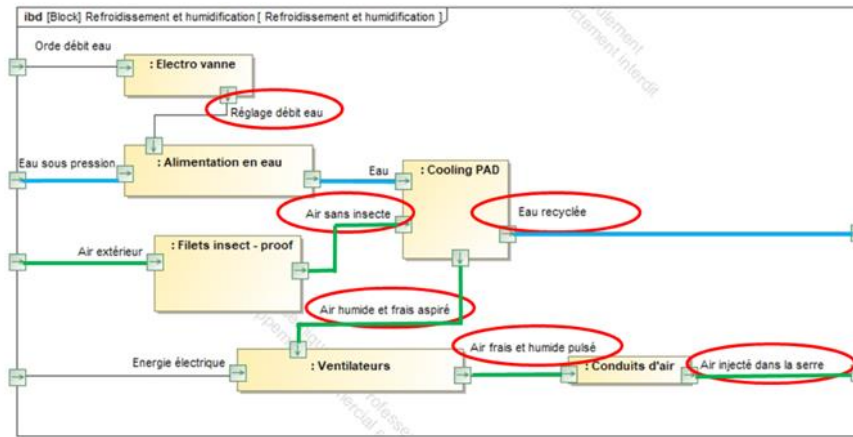
Question 52

Le candidat propose une étude de capteurs autour de la notion de signaux logiques et analogiques montrant un écart de performance et impliquant un choix de solution de capteurs.

Exemples :

- Étude du capteur fin de course position haute et basse de la position de l'ouvrant, signal logique
- Étude du capteur de température de l'intérieur de la serre, signal d'acquisition analogique
- Proposition d'étude de deux technologies de capteur permettant de montrer aux élèves l'acquisition d'informations logiques et analogiques

Question 53



Question 54

$$Q_{\text{air}} = 3600 \cdot 1 \cdot 180 \cdot 1,8 = \boxed{1\,166\,400 \text{ m}^3 \cdot \text{h}^{-1}}$$

$$E = \frac{1,2 \cdot 1\,166\,400 \cdot (15 - 9)}{1000 \cdot 60} = \boxed{140 \text{ L} \cdot \text{min}^{-1}}$$

$$C = (1 + 0,2) \cdot 140 = \boxed{168 \text{ L} \cdot \text{min}^{-1}}$$

$$\frac{168}{200} = 0,84 > 0,66 \Rightarrow \boxed{N_{\text{ouv}} = 3}$$

$$t_{\text{ouv}} = \frac{60 \cdot 137447}{1\,166\,400} = \boxed{7 \text{ min}}$$

Question 55

$$C_{\text{tot}} = 168 \cdot 7 = \boxed{1176 \text{ litres}}$$

Question 56

$$H_{\text{ae}} = \text{lire_Ha_DAH}(T_e, H_{\text{re}})$$

$$H_{\text{as}} = \text{lire_Ha_DAH}(T_s, H_{\text{rs}})$$

Question 57

If $C/200 < 0.33$:

$$\text{Nouv} = 1$$

elif $C/200 < 0.66$:

$$\text{Nouv} = 2$$

else :

$$\text{Nouv} = 3$$

Question 58

- l'efficacité hydrique en litres d'eau apportée par kg de tomates produites,
- les efficacités énergétiques en kW·h apporté par kg de tomates produites pour les trois cas étudiés,

- les coûts totaux énergétiques en euros par kg de tomates produites pour les trois cas étudiés.

Conditions de culture		Rendement des cultures par m ³ d'eau apportée (kg·m ⁻³)	Efficience hydrique (L·kg ⁻¹)
Champ	Culture en terre	14	71
Serres en plastique non chauffées	Culture en terre	24	41,7
Serres chauffées traditionnelles	Culture sur substrat	39	25,6
Serres semi-fermées	Culture sur substrat	66	15,1

	Cas type A	Cas type B	Cas type C
Date de construction	2009 (2001 – 2015)	1997 (1974 – 2015)	1979 (1960 – 1988)
Superficies de serres semi-fermées	30 %	5 %	0 %
Calendrier de production	Deux productions par an : Semi en novembre pour une entrée en production début février Semi en août pour une entrée en production début octobre		Plantation plus tardive (décembre à février) pour limiter les coûts de chauffage
Consommation énergétique totale			
Consommation énergétique (kW·h·m ⁻²)	282	306	165
Rendement des cultures (kg·m ⁻²)	53	42,5	31
Efficience énergétique (kW·h·kg ⁻¹)	5,3	7,2	5,3
Coût lié à l'énergie			
Chauffage (€·m ⁻²)	6,30	8,10	4,85
Electricité (€·m ⁻²)	1,44	0,68	0,67
CO2 liquide (€·m ⁻²)	0,78	0,25	0,40
Coût total énergétique (€·kg ⁻¹)	0,16	0,21	0,19

Question 59

La culture sur substrat a permis de réduire considérablement la consommation en eau (passage de 71 L·kg⁻¹ à 25,6 L·kg⁻¹ : gain d'environ 45 L·kg⁻¹). Les serres semi-fermées ont apporté un gain supplémentaire d'environ 10 L·kg⁻¹ abaissant la consommation à 15 L·kg⁻¹. C'est tout de même pratiquement 5 fois moins que la culture en terre.

L'efficience énergétique moyenne du cas-type A est bien meilleure que celle du cas-type B, où le chauffage est utilisé en partie dans des serres anciennes, en comparaison moins bien isolées et moins productives. Avec une consommation moyenne de 165 kWh·m⁻², le cas-type C a réduit son coût de chauffage, principalement en décalant les périodes de productions. Les rendements sont ainsi réduits à environ 31 kg·m⁻², et la mise en marché est plus tardive et donc moins rémunératrice. Par extrapolation, on peut imaginer que l'efficience énergétique serait encore bien meilleure avec un cas-type ne comprenant que des serres semi-fermées (superficie 100 %).

En offrant une meilleure gestion climatique toute l'année par rapport à une serre classique « ouverte », les serres semi-fermées améliorent le rendement, permettent de réaliser une économie d'eau et d'énergie, tout en augmentant la protection des cultures. Le système de traitement d'air piloté les caractérisant et étudié dans ce sujet répond donc bien à la problématique générale :

« Créer dans la serre un climat de croissance optimal pour la tomate avec une utilisation rationnelle de l'énergie et de l'eau. »

D. Commentaires du jury

Le sujet présente des questions portant sur les différents champs des sciences industrielles de l'ingénieur, des questions portant sur l'ingénierie système et des questions de pédagogie. Chaque partie présente un niveau de difficulté graduel, le jury conseille aux candidats de parcourir l'intégralité des questions. Toutes les parties sont indépendantes.

Généralement les candidats répondent mieux aux questions appartenant à leur domaine de compétences, certains candidats sont en difficulté sur les questions les plus abordables quel que soit le champ disciplinaire.

Les questions pédagogiques sont insérées dans les différentes parties et font référence au questionnement scientifique et technologique. Elles font appel à l'exploitation des programmes officiels. Le jury relève que peu de candidats sont en capacité de le faire correctement. Souvent, les candidats proposent des déroulés de séquence type qui ne répondent pas à la question posée par exemple en commençant par « définir une problématique ». La confusion entre compétence et connaissance est fréquente. Les activités proposées ne sont pas en adéquation avec le contexte (élèves de collège) et les moyens disponibles dans les établissements.

La lecture de certaines copies est difficile tant l'écriture est illisible ou parsemée de fautes d'orthographe.

Partie 1. Mise en situation

Elle est composée de deux questions de pédagogie portant sur un projet interdisciplinaire.

Les réponses sont souvent partielles et ne font pas référence au développement de connaissances disciplinaires et/ou compétences du socle. Beaucoup de candidats n'arrivent pas à se mettre à la place de l'initiateur de projet avec une équipe pédagogique variée et n'abordent pas tous les points de l'ordre du jour.

Les exemples de collaboration avec le professeur d'anglais sont souvent simplistes et se limitent à la traduction de termes relatifs au fonctionnement de la serre (cooling pad par exemple) ou de documentations techniques. Très peu de collaborations sont proposées entre les contenus disciplinaires (sciences et anglais) sur un temps long.

Partie 2. Résistance de la structure

Sept questions portant sur l'ingénierie des constructions.

Le jury relève la méconnaissance des candidats sur la stabilité des bâtiments, les sollicitations, les chargements... Les unités sont souvent incohérentes. Peu de candidats identifient correctement les contreventements et les palées de stabilité / croix de Saint André dans la structure. Le flambement est rarement évoqué pour justifier une augmentation de la section des poteaux. Beaucoup d'erreurs sont relevées sur le calcul d'une section de poteau ou d'une surface.

En pédagogie la démarche d'investigation n'est jamais évoquée et une certaine confusion existe dans la lecture du programme. Beaucoup de candidats confondent connaissances et compétences et proposent des compétences n'ayant aucun lien avec l'activité expérimentale proposée. La description d'une activité expérimentale à partir de la poutre treillis est mieux traitée, les candidats proposent des schémas explicatifs.

Partie 3. Distribution de l'air dans le corridor et la serre

Dix-neuf questions portant sur l'ingénierie système, l'ingénierie électrique et l'ingénierie informatique.

Beaucoup de candidats ont des difficultés pour interpréter le cheminement de l'air dans la serre en fonctionnement été / hiver. Les calculs de débit d'air ont été dans l'ensemble bien menés. Certains candidats n'ont pas profité des points faciles accordés pour reporter des valeurs dans un tableau. D'une manière générale, les choix doivent être justifiés et présenter des comparaisons de valeurs numériques de mêmes unités, ils doivent être accompagnés d'un petit texte explicatif avec les grandeurs physiques usitées.

L'analyse des formes d'ondes dans un modulateur d'énergie classique est souvent menée aléatoirement sans réflexion poussée. La justification du nombre de paires de pôles d'une MAS à partir des caractéristiques du constructeur est méconnue de nombreux candidats.

Le décodage d'une trame MODBUS n'a pas posé de souci majeur. Néanmoins, l'interprétation a été plus délicate.

Le QCM portant sur le réseau informatique se limite souvent à de simples questions sans aucune proposition de réponses.

La distinction entre attendus de fin de cycle et connaissances / compétences associées n'est pas évidente pour de nombreux candidats.

Partie 4. Gestion de la surpression dans la serre

Vingt-quatre questions portant sur l'ingénierie mécanique et l'ingénierie électrique.

Les formules simples de mécanique ne sont pas connues ainsi que les relations trigonométriques de base. Un manque de rigueur est souvent relevé dans la présentation des équations. Les résultats chiffrés doivent être vérifiés et cohérents.

Le déplacement du tube « push-pull » est souvent donné à l'inverse du sens réel ce qui laisse penser que les candidats ont des problèmes de lecture d'un schéma cinématique.

Le positionnement angulaire fait apparaître des erreurs de signe et un manque de précision.

Les questions de pédagogie souvent traitées superficiellement et ne font pas référence à des solutions (demandées) pour mettre en mouvement l'ouvrant. Les conditions matérielles d'un laboratoire de technologie ne sont pas connues.

Partie 5. Rafraichir et humidifier l'air dans la serre

Cinq questions portant sur l'ingénierie système et l'ingénierie informatique.

Les candidats manquent de cohérence dans les valeurs numériques des débits, quantité d'eau et durée d'ouverture du châssis. Ils doivent prendre du recul par rapport aux valeurs trouvées ($1\ 000\ 000\ \text{m}^3\cdot\text{s}^{-1}$ par exemple).

Peu de candidats ont donné les bonnes réponses aux deux questions de programmation en Python.

Seuls les flux sont correctement identifiés sur le diagramme partiel des blocs internes.

Partie 6. Conclusion

Les candidats ont bénéficié de deux questions simples portant que la rédaction d'une synthèse et l'analyse du sujet.

Très peu de candidats ont abordé la conclusion et commenté les tableaux. Quelques réflexions poussées et pertinentes ont toutefois été notées pour les candidats qui s'y sont penchés.

Le jury rappelle une nouvelle fois aux candidats l'importance de soigner la présentation de la copie, la qualité de la rédaction et la précision du vocabulaire. Le jury demande aux candidats de faire particulièrement attention au soin apporté et à la qualité de la rédaction. Les candidats doivent correctement repérer les questions et en cas d'absence de réponse, l'indiquer clairement sur la copie. Le jury conseille également de mettre les résultats en évidence, en les encadrant par exemple.

Il est important de connaître les unités des différentes grandeurs physiques pour avoir un regard critique sur l'homogénéité des relations et des résultats proposés. Le jury invite donc les candidats à traiter ces aspects avec plus de rigueur. Les résultats doivent être présentés sous forme littérale, et les applications numériques doivent aussi être réalisées avec rigueur avec un nombre significatif de chiffres après la virgule cohérent.

Les candidats doivent se présenter pour l'épreuve avec une calculatrice scientifique en état de marche. La rigueur mathématique fait partie des attendus des candidats aux concours de recrutement de professeurs de sciences industrielles de l'ingénieur. Les grandeurs vectorielles ou scalaires doivent être clairement identifiées et la résolution d'équations mathématiques maîtrisée. Le jury recommande aux candidats d'apporter un soin particulier aux questions de conclusion de chacune des parties. Les écarts évalués doivent être clairement mis en évidence et commentés. La validation des performances se fait de façon justifiée vis-à-vis des critères du cahier des charges et des travaux réalisés dans la partie concernée. Par ailleurs, une lecture attentive et complète du sujet est nécessaire pour permettre d'exploiter au mieux les documents ressources mis à disposition.

Le jury insiste sur le fait que pour traiter cette épreuve transversale, les candidats doivent avoir un minimum de connaissances et de culture scientifique dans plusieurs domaines. Ce point reste primordial pour des enseignants destinés à l'enseignement technologique dans sa globalité. Le jury conseille donc aux futurs candidats de travailler dans ce sens.

Enfin, le candidat qui se présente à un concours pour être enseignant en SII doit avoir un minimum de connaissances pédagogiques propres au métier auquel il postule. Il se doit de connaître à minima pour la spécialité sciences de l'ingénieur du baccalauréat général, le baccalauréat technologique STI2D et la technologie au collège :

- la structure et le découpage des programmes ;
- les compétences disciplinaires (et les compétences du socle en collège) ;
- les connaissances et les objectifs.
- Les liens entre les sciences de l'ingénieur et les autres disciplines.

E. Résultats

Les statistiques générales pour cette épreuve sont données ci-dessous.

	CAPET (public)	CAFEP (privé)
Nombre de copies	52	20
Moyenne	7,89 / 20	8,65 / 20
Note maximum	13,30 / 20	12,10 / 20
Écart type	2,82	3,06

Épreuve de leçon

A. Présentation de l'épreuve

Durée des travaux pratiques encadrés : cinq heures

Durée de la présentation : trente minutes maximum

Durée de l'entretien : trente minutes maximum

Coefficient : 5

L'épreuve a pour objet la conception et l'animation d'une séance d'enseignement dans l'option choisie. Elle permet d'apprécier à la fois la maîtrise disciplinaire, la maîtrise de compétences pédagogiques et de compétences pratiques.

L'épreuve prend appui sur les investigations et analyses effectuées par le candidat pendant les cinq heures de travaux pratiques relatifs à une approche spécialisée d'un système pluri-technologique et comporte la présentation d'une séance d'enseignement suivi d'un entretien avec les membres du jury. L'exploitation pédagogique attendue, directement liée aux activités pratiques réalisées, est relative aux enseignements en collège, en lycée et aux sections de STS de la spécialité.

L'épreuve est notée sur 20. 10 points sont attribués à la partie liée aux travaux pratiques et 10 points à la partie liée à la soutenance. La note 0 à l'ensemble de l'épreuve est éliminatoire.

B. Déroulement de l'épreuve

• Organisation

Les deux parties, travaux pratiques et exploitation pédagogique, sont indépendantes et sont notées chacune sur dix points.

La séparation de l'évaluation des deux parties de l'épreuve permet de dissocier la réussite à la partie « travaux pratiques » de celle à la partie « exploitation pédagogique ».

Les supports utilisés, pour cette session, sont des systèmes pluri-technologiques actuels :

- robot haptique ;
- véhicule de mobilité urbaine ;
- bras deux axes de contrôle par caméra ;
- robot humanoïde ;
- système de caméra auto-suiveuse ;
- nacelle de prise de vue.

Les documents accompagnant le support fournissent une guidance qui permet aux candidats, quelle que soit leur connaissance du système de mobiliser leurs compétences scientifiques et pédagogiques. Chaque support conduit à une exploitation pédagogique, liée à l'option choisie, de niveau imposé en technologie au collège, en série STI2D (sciences et technologies de l'industrie et du développement durable), en enseignement de spécialité sciences de l'ingénieur de la voie générale ou en STS de la spécialité.

Pour la partie travaux pratiques, les postes de travail sont équipés, selon la nécessité des activités proposées, des matériels usuels de mesure des grandeurs physiques (oscilloscopes numériques, multimètres, dynamomètres, tachymètres, cartes d'acquisition associées à un ordinateur...). Cette liste n'est pas exhaustive.

Le jury dispose d'une traçabilité des connexions sur le réseau permettant de suivre les sites consultés.

- **Travail demandé**

Rappel des attendus

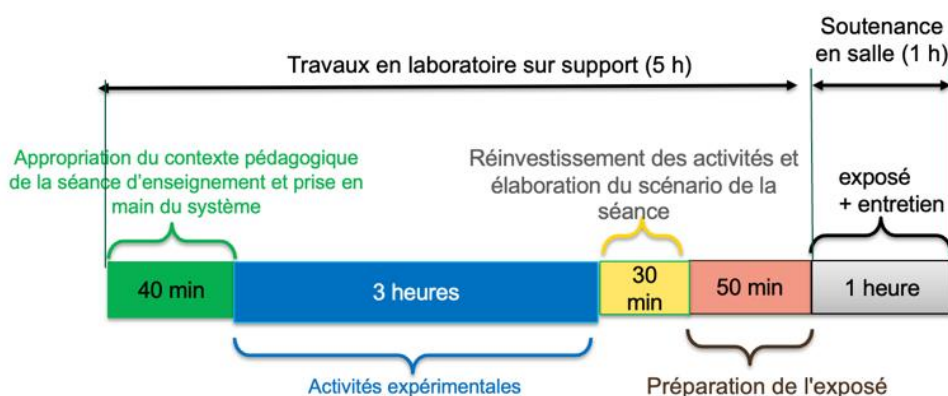
L'épreuve a pour objet la conception et l'animation d'une séance d'enseignement. La séance proposée prendra appui sur les investigations effectuées pendant la phase de travaux pratiques. Cette épreuve permet d'apprécier à la fois la maîtrise disciplinaire, la maîtrise de compétences pédagogiques et de compétences pratiques du candidat.

L'épreuve se déroule selon la chronologie suivante :

Travaux en laboratoire (5 heures) :

- Phase 1 : appropriation du contexte pédagogique de la séance d'enseignement et prise en main du système (40 minutes) ;
- Phase 2 : réalisation d'activités expérimentales (3 heures) ;
- Phase 3 : réinvestissement des activités et élaboration du scénario de la séance (30 minutes) ;
- Phase 4 : préparation de l'exposé (50 minutes).

Exposé (1 heure) : 30 minutes maximum de présentation, 30 minutes maximum d'entretien.



Phase 1 : Appropriation du contexte pédagogique de la séance d'enseignement et prise en main du système (40 minutes)

Appropriation du contexte pédagogique

La séance d'enseignement à présenter lors de l'exposé est une activité prévue pour une heure en classe entière. Elle doit être élaborée pour la série, le niveau et les objectifs de formation définis ci-dessous.

Les éléments suivants sont indiqués au candidat :

- Série : Technologie, STI2D, SI ou BTS (spécialité précisée selon le sujet)
- Niveau : classe concernée
- Période : période de l'année (début, milieu ou fin d'année)
- Compétences visées (il s'agit des compétences que la séance présentée par le candidat doit permettre de développer chez les élèves ; une à deux compétences sont imposées)
- Connaissances/savoirs associés (il s'agit des connaissances/savoirs associées aux compétences qui devront être développé(e)s dans le cadre de la séance présentée par le candidat)

Prise en main du système et de son environnement

Il est mis à disposition du candidat :

- un espace numérique personnel accessible pendant les six heures de l'épreuve ;
- un ordinateur équipé des logiciels de bureautique usuels, de logiciels dédiés aux activités pratiques et d'un accès à internet ;
- un dossier « Documents candidats » comportant diverses ressources ;
- un système didactisé

Quelques manipulations sont proposées au candidat. Elles sont fortement guidées et doivent permettre une prise en main des matériels/logiciels mis à sa disposition pour réaliser les activités expérimentales suivantes.

Phase 2 : activités expérimentales (3 heures)

Dans cette phase 2, une succession d'activités expérimentales est proposée aux candidats. Ces activités permettent d'évaluer l'aptitude du candidat à :

- concevoir un protocole expérimental ;
- mettre en œuvre un protocole expérimental ;
- réaliser une partie d'un programme ;
- réaliser le relevé de grandeurs physiques ;
- extraire des informations de documentations fournies ;
- analyser les relevés et déduire les conclusions quant à l'objectif visé (ce retour à l'objectif de l'activité est essentiel).

Phase 3 : réinvestissement des activités et élaboration du scénario de la séance (30 minutes)

La séance d'enseignement à présenter lors de l'exposé est une activité prévue en classe entière pour une durée d'une heure. Elle doit être élaborée pour la série, le niveau et les objectifs de formation définis en phase 1.

Le programme (ou le référentiel) de la classe concernée est mis à disposition du candidat.

À partir du contexte pédagogique imposé, il est demandé au candidat d'identifier parmi les activités expérimentales réalisées lors de la phase 2 celles qui pourraient être exploitées et transposées au niveau d'élèves concerné. Le candidat ayant toujours accès au matériel de travaux pratiques, des expérimentations complémentaires peuvent être réalisées.

Phase 4 : préparation de l'exposé (50 minutes)

Lors de cette phase, le candidat n'a plus accès au matériel de travaux pratiques.

Pour information, le candidat dispose lors de son exposé :

- de l'espace numérique personnel utilisé lors des phases précédentes ;
- d'un ordinateur équipé des logiciels de bureautique et d'un vidéoprojecteur ;
- d'un tableau blanc et de feutres.

La durée de la présentation devant la commission d'interrogation est de 30 minutes maximum.

Elle doit inclure une courte introduction explicitant :

- la description du contexte pédagogique de la séance (imposé en phase 1), une description succincte de l'articulation de la séance présentée avec les séances antérieures et postérieures ;
- la(les) problématique(s) éventuelle(s) permettant de contextualiser les activités proposées aux élèves ;
- le plan de la séance.

Les activités proposées aux élèves dans le cadre de la séance sont ensuite présentées et argumentées.

Il n'est pas attendu du candidat qu'il détaille lors de l'exposé la chronologie des activités expérimentales qu'il a conduites au laboratoire durant les trois heures qui y sont consacrées.

C. Commentaires du jury

1. Analyse globale des résultats

Le jury tient à souligner la qualité de préparation de nombreux candidats. Néanmoins, les attendus de l'épreuve et les modalités de mise en œuvre décrits au JORF ne sont pas connus de tous. Il s'avère

extrêmement difficile de réussir les activités pratiques et l'exploitation pédagogique si les objectifs spécifiques de ces deux parties de l'épreuve ne sont pas connus.

Les notions théoriques portant sur la didactique de la discipline et sur les différentes démarches pédagogiques associées sont régulièrement citées par les candidats. Elles ne font que trop rarement l'objet d'une contextualisation ou d'une proposition concrète dans le cadre de la séance présentée lors de la leçon.

Une proportion notable de candidats ne connaît pas les grands principes de la dernière réforme du lycée. Les programmes de technologie au collège, de la série STI2D et de l'enseignement de spécialité sciences de l'ingénieur du lycée général et technologique ainsi que les documents ressources pour faire la classe sont parfois inconnus des candidats. Le jury a été également surpris que des candidats ne soient pas acculturés au socle commun de connaissances, de compétences et de culture ainsi qu'à l'évaluation par compétences.

Le nombre des exploitations pédagogiques portant sur le collège, la série STI2D, l'enseignement de spécialité SI ou les STS de la spécialité a été équilibré sur l'ensemble de la session ; les candidats doivent être en mesure de produire des séances sur tous les niveaux d'enseignement. Le jury rappelle que les exploitations pédagogiques doivent s'appuyer sur les programmes et référentiels en vigueur lors de la session du concours.

2. Commentaires et conseils aux candidats

Pour la partie travaux pratiques

Le manque de culture scientifique et technologique pénalise de nombreux candidats dans l'appropriation des supports pluri-technologiques. Il est impératif, pour réussir cette épreuve, de disposer de compétences et de connaissances scientifiques et technologiques avérées dans les trois domaines « matière – énergie – information ». Cette culture technologique ne se limite en aucun cas à un domaine disciplinaire unique lié à l'option choisie par le candidat. Les futurs professeurs de sciences industrielles de l'ingénieur se doivent d'avoir une vision transversale et globale de leur discipline et de conduire une veille technologique régulière. Tout au long de l'épreuve, le jury est amené à interagir avec les candidats de façon à ce qu'ils puissent exposer leurs démarches, leurs raisonnements et leurs conclusions ; il attend un discours scientifiquement rigoureux, clair et argumenté.

Les candidats les plus efficaces font preuve d'autonomie, d'esprit critique et d'écoute envers le jury lors des travaux pratiques. Ils prennent des initiatives dans la conception de leur séance pédagogique et mettent à profit l'ensemble des ressources numériques mises à leur disposition.

Le jury tient à souligner que nombre de candidats sont bien préparés à cette partie de l'épreuve et s'appuient sur des compétences à la fois transversales et spécifiques à leur option.

Organisation à suivre lors de l'épreuve

Il est conseillé de prendre connaissance de l'intégralité du sujet avec ses annexes avant de commencer les activités expérimentales, de lire les consignes.

Les candidats réalisent des activités expérimentales et analysent des résultats afin de conclure sur les problématiques du sujet. Ces manipulations, mesures et interprétations, sont réalisées au niveau de compétences d'un master première année.

Les candidats doivent penser à garder des traces numériques de leurs résultats et de leurs travaux afin de les réinvestir dans une séance adaptée au collège ou au lycée.

La connaissance préalable du système et des logiciels n'étant pas demandée, les membres de jury peuvent être sollicités par les candidats en cas de problème ou de difficultés liées à l'utilisation d'un logiciel ou d'un appareil de mesure spécifique. Plus généralement, le jury est présent pour accompagner les candidats dans leur démarche.

Aptitude à mener un protocole expérimental

Le jury a apprécié l'autonomie dans la manipulation des systèmes de certains candidats. La mise en œuvre des matériels de mesure et d'acquisition ne présente pas de difficultés particulières. Cependant pour certains candidats, les instruments de mesure les plus courants ne sont pas suffisamment connus (nom, utilisation, symbole et unités des grandeurs physiques mesurées). Les membres du jury assurent l'accompagnement nécessaire afin que la spécificité d'un équipement ne constitue pas un obstacle à la réussite du candidat. Il est attendu du candidat qu'il soit capable de proposer et de justifier des choix de protocoles expérimentaux.

Les travaux pratiques font apparaître que de nombreux candidats ne maîtrisent pas suffisamment les notions fondamentales de leur spécialité, ni les systèmes d'unités associés. De même, plusieurs d'entre eux ne sont pas en mesure de réaliser des manipulations mathématiques de base indissociable de la culture scientifique commune (résolution d'une équation du premier degré ou calcul d'un coefficient directeur).

Utilisation des modèles numériques

Globalement, les candidats utilisent correctement les modèles numériques fournis. Le jury note cependant que de nombreux candidats manquent de recul et d'esprit critique dans l'interprétation des résultats de la simulation numérique et dans l'analyse des hypothèses utilisées lors de l'élaboration du modèle. Il est attendu des candidats une analyse pertinente des écarts entre les résultats issus de la simulation d'un modèle numérique, les mesures issues du système réel à partir d'expérimentations et/ou les performances attendues indiquées dans le cahier des charges.

Préparation de la séance

Le candidat doit bien identifier les activités réalisées qui pourraient être réinvesties lors de l'exposé, au niveau collège, en pré-bac ou en STS. Cet inventaire doit l'amener à envisager les activités possibles à proposer dans la classe pour la séance et le niveau demandé. Les conclusions et les résultats de ces expérimentations pourront être réutilisés lors de l'élaboration de la séance.

Il convient de transposer les activités réalisées par les candidats lors des activités expérimentales dans un contexte de formation pour des élèves (ou étudiants) au regard de la commande pédagogique imposée dans le sujet.

Certains candidats, déjà contractuels, mettent à profit leurs expériences pour proposer des séances pertinentes. Cependant, bon nombre de candidats se lancent dans la production d'une séance sans réellement analyser les compétences et les connaissances ciblées pour la leçon. Certains perdent encore du temps à formaliser une séquence pédagogique sans aborder la séance cible ; d'autres s'approprient des formats types non adaptés à la commande.

Le jury regrette que trop peu de candidats présentent une synthèse de leurs activités pratiques afin d'en sélectionner les éléments pertinents pour leur séance. Le hors-sujet est encore malheureusement trop fréquent.

Le jury conseille aux candidats de commencer par la construction du document de synthèse de la séance demandée. Ce document formalisera les savoirs et/ou la méthodologie à retenir par les élèves. Cela faciliterait la transposition didactique demandée et permettrait de proposer des activités d'apprentissage opérationnelles.

Le jury conseille encore aux candidats de justifier clairement les choix pédagogiques opérés sans se cantonner à des généralités.

Pour l'exposé devant le jury

Les candidats inscrivent leur développement pédagogique dans un contexte pédagogique donné dans le sujet. La séance d'enseignement à présenter est une activité prévue en classe entière pour une durée d'une heure. Afin de bien préciser au jury les enjeux et les attendus de la séance, celle-ci doit être intégrée dans une séquence. Le candidat doit situer la séance dans une organisation temporelle, en précisant ce qui est fait avant et après. Il doit également expliciter la construction de la séance en s'appuyant sur des activités expérimentales réalisées auparavant et de leurs résultats. Le candidat est amené à préciser pour la séance décrite les prérequis, les objectifs (compétences à faire acquérir, capacités et connaissances attendues), l'organisation de la classe, les modalités pédagogiques (cours, activités dirigées, activités pratiques, projet), les stratégies pédagogiques (déductif, inductif, différenciation pédagogique, démarche d'investigation, démarche de résolution de problème technique, pédagogie par projet, approche spiralaire...), les activités des élèves et les productions attendues. La description de la séance doit faire explicitement apparaître la prise en compte de la diversité des publics accueillis dans la classe. Il est attendu que le candidat précise la façon dont il compte animer la classe et mettre en synergie les élèves / étudiants en vue de la structuration des acquis.

Les phases de structuration des connaissances permettant la construction des connaissances des élèves et les différentes formes d'évaluation des élèves peuvent être des parties intégrantes de la séance.

Les différentes modalités d'enseignement (enseignement pratique interdisciplinaire, interdisciplinarité, concours scientifique et technique...) et les dispositifs d'accompagnement et de remédiation doivent être précisés.

Le jury met en garde les candidats qui éludent tout ou partie des objectifs visés en termes de compétences et connaissances associées voire s'écartent du contexte pédagogique imposé. Dans ce cas, le jury considère la leçon présentée hors sujet.

Enfin, un discours purement pédagogique qui ne répondrait pas concrètement aux objectifs d'apprentissage visés ne saurait être cautionné par le jury.

Il s'agit du cœur même de l'épreuve que de traiter la commande en termes de niveau, et de compétences/connaissances attendues. L'expertise pédagogique ne saurait palier ce manquement à l'exigence de contenu didactique.

De trop nombreux candidats confondent les activités de travaux pratiques réalisées lors de la phase 2 de l'épreuve et les activités de la séance pédagogique à exposer ; leur exposé est, de fait, hors sujet.

Utilisation du numérique

Le jury conseille aux candidats de bien identifier les points de leur séance pédagogique pour lesquels l'usage du numérique apportera une réelle plus-value aux apprentissages des élèves. Le jury constate que peu de candidats proposent une exploitation d'outils numériques éducatifs, à des fins d'animation de séance, de présentation, de travail collaboratif, d'échanges entre le professeur et les élèves (type ENT par exemple).

Réinvestissement des résultats de travaux pratiques

L'objectif attendu de la leçon est une exploitation pédagogique s'appuyant sur tout ou partie des activités pratiques réalisées et de leurs résultats et permettant aux apprenants de comprendre les concepts fondamentaux associées aux compétences visées. Les activités expérimentales menées dans la partie « travaux pratiques » peuvent être d'un niveau supérieur celui demandé dans la séance, il ne s'agit donc pas de faire, au travers de la séance pédagogique, un compte-rendu de l'activité pratique réalisée, mais de s'appuyer sur les expérimentations pour en extraire des données et des activités à proposer aux élèves. Cependant, une rapide présentation des objectifs et conclusions des expérimentations réalisées en TP en première partie de l'épreuve, permettra au jury de mieux comprendre l'intégration

de ceux-ci dans la séance. Il est apprécié de réaliser une présentation dynamique qui inclut des copies d'écran, des résultats de mesures, des éléments de cahier des charges ou d'analyse SysML, etc. Le jury ne se satisfait en aucun cas d'une exploitation brute des activités proposées dans la première partie de l'épreuve.

Réalisme de l'organisation de la classe

Le jury attend des candidats qu'ils émettent des hypothèses réalistes sur les conditions d'enseignement. Leurs propositions doivent être pragmatiques afin que le jury puisse appréhender le scénario pédagogique envisagé (travail en "autobus", en îlots, en équipes, en binômes ou individuellement). Le candidat doit notamment préciser son rôle dans la conduite et l'animation de la séance.

Évaluation

Le processus retenu par le candidat pour l'évaluation des compétences doit être clairement décrit (évaluation diagnostique, formative, sommative, certificative, ...) et justifié. Les critères d'évaluation doivent être explicités. Les modalités et les outils doivent être précisés. Si des remédiations ou des différenciations pédagogiques sont envisagées, elles doivent être explicitées.

Trop souvent, les candidats se contentent d'évoquer les processus d'évaluation sans pouvoir en expliquer réellement le déroulement, les modalités et surtout l'objectif en termes d'acquisition des compétences par les élèves.

Présentation orale

Quelques candidats proposent des présentations (orales et écrites) très formatées, quelques fois hors du contexte des activités pratiques réalisées en amont, qui ne résistent pas aux questionnements du jury et mettent en évidence des lacunes.

Le jury note également que quelques candidats limitent leur présentation à un descriptif sommaire des activités sans expliciter et justifier clairement la démarche.

Le jury invite les candidats à, certes, maîtriser les attendus pédagogiques et didactiques de la discipline, mais surtout à être en capacité de les réinvestir de façon adaptée et pertinente. À titre d'exemples, les termes « formatif », « sommatif », « inductif », ... doivent être utilisés à bon escient et dans un contexte adapté.

Enfin, le jury rappelle que le concours constitue la première étape de l'entrée dans le métier du professorat. Le candidat se doit donc d'adopter une posture et un positionnement exemplaires constitutifs de la mission d'enseignant. Le jury invite vivement les candidats à s'appropriier le référentiel des compétences professionnelles des métiers du professorat et de l'éducation (arrêté du 1-7-2013 - J.O. du 18-7-2013).

Réactivité au questionnement

Le jury attend de la concision et de la précision ainsi qu'une honnêteté intellectuelle dans les réponses formulées. Les réponses au questionnement doivent laisser transparaître un positionnement adapté aux attentes de l'Institution et une réelle appropriation des valeurs de la République.

Le candidat se doit d'être réactif sans chercher à éluder les questions ou à noyer le propos dans un discours pédagogique non maîtrisé. Plus qu'une réponse exacte instantanée, le jury apprécie la capacité à argumenter, à expliquer et justifier une démarche ou un point de vue.

Qualité des documents de présentation et expression orale

Il est attendu des candidats une maîtrise des outils numériques pour l'enseignement afin de construire un document clair, structuré, lisible et adapté à la présentation de l'exposé.

Le jury est extrêmement attentif à la qualité de la syntaxe et de l'orthographe.

Les candidats s'expriment généralement correctement. La qualité de l'élocution et la clarté des propos sont indispensables aux métiers de l'enseignement.

Conseils aux candidats

Le jury conseille aux candidats de :

- s'approprier les programmes et référentiels des niveaux énoncés dans la définition de l'épreuve ainsi que les documents ressources associés ;
- prendre connaissance du socle commun de connaissances, de compétences et de culture ;
- maîtriser les concepts fondamentaux de la spécialité choisie ;
- s'informer sur les pratiques pédagogiques et didactiques, les modalités de fonctionnement et d'organisation des horaires de tous les niveaux d'enseignement que peuvent assurer les professeurs de sciences industrielles de l'ingénieur ;
- se préparer à exploiter les résultats d'investigations et d'expérimentations en regard des contenus disciplinaires ;
- s'informer sur les modalités des épreuves d'examen auxquelles ils préparent leurs futurs élèves ;
- travailler sa posture et ses intonations afin de rentrer en interaction avec le jury et ne pas lire les documents projetés sans tenir compte de l'auditoire.

3. Conclusion

L'épreuve de leçon nécessite une préparation sérieuse et approfondie en amont de l'admissibilité. Cette préparation doit porter tout autant sur la partie « travaux pratiques » que sur la partie « exploitation pédagogique », car ces deux parties de l'épreuve sont complémentaires et indissociables. Les compétences nécessaires à la réussite de cette épreuve peuvent être acquises et développées lors de stages en situation et de périodes d'observation ou d'enseignement. Une connaissance fine des programmes/référentiels et des documents ressources pour faire la classe est également nécessaire. Le métier d'enseignant exige une exemplarité dans la tenue, dans la posture ainsi que dans le discours. L'épreuve de leçon permet la valorisation de ces qualités.

D. Résultats

Les statistiques générales pour cette épreuve sont données ci-après.

	CAPET (public) Note sur 20	CAFEP (privé) Note sur 20
Moyenne	8,97	11,92
Note maximum	18,8	17,5
Note minimale	2,9	5,1
Écart-type	4,25	3,57

Épreuve d'entretien

A. Présentation de l'épreuve

Durée : 35 minutes
Coefficient 3

L'épreuve d'entretien avec le jury porte sur la motivation du candidat et son aptitude à se projeter dans le métier de professeur au sein du service public de l'éducation.

L'entretien comporte une première partie d'une durée de quinze minutes débutant par une présentation, d'une durée de cinq minutes maximum, par le candidat des éléments de son parcours et des expériences qui l'ont conduit à se présenter au concours en valorisant ses travaux de recherche, les enseignements suivis, les stages, l'engagement associatif ou les périodes de formation à l'étranger. Cette présentation donne lieu à un échange avec le jury.

La deuxième partie de l'épreuve, d'une durée de vingt minutes, doit permettre au jury, au travers de deux mises en situation professionnelle, l'une d'enseignement, la seconde en lien avec la vie scolaire, d'apprécier l'aptitude du candidat à :

- s'approprier les valeurs de la République, dont la laïcité, et les exigences du service public (droits et obligations du fonctionnaire dont la neutralité, lutte contre les discriminations et stéréotypes, promotion de l'égalité, notamment entre les filles et les garçons, etc.) ;
- faire connaître et faire partager ces valeurs et exigences.

Le candidat admissible transmet préalablement une fiche individuelle de renseignement établie sur le modèle figurant à l'annexe VI de l'arrêté du 25 janvier 2021 fixant les modalités d'organisation des concours du certificat d'aptitude au professorat de l'enseignement technique, selon les modalités définies dans l'arrêté d'ouverture.

L'épreuve est notée sur 20. La note 0 est éliminatoire.

B. Déroulement de l'épreuve

Pour des raisons d'équité, la durée des entretiens est fixe. Le jury veille à ce que les temps impartis soient respectés. Il convient aux candidats d'être vigilant quant à la durée de leurs réponses.

Le candidat ne dispose d'aucun document. Le jury n'intervient pas pendant les cinq minutes de présentation du candidat.

Le déroulé est rappelé ci-dessous :

15 minutes	5 minutes maximum	Présentation par le candidat des éléments de son parcours et des expériences qui l'ont conduit à se présenter au concours en valorisant notamment ses travaux de recherche, les enseignements suivis, les stages, l'engagement associatif ou les périodes de formation à l'étranger.
	10 minutes minimum	Échanges suite à la présentation
20 minutes (10 + 10 min)		Deux mises en situation professionnelle - d'enseignement - en lien avec la vie scolaire

Les mises en situation professionnelle sont définies par le jury en amont du passage des candidats. Une lecture de ces mises en situation professionnelle est réalisée par un des membres du jury.

C. Commentaires du jury

Cette épreuve est révélatrice de la posture professionnelle du candidat mais aussi de son éthique, sa déontologie et ses futurs réflexes professionnels. Elle sollicite, au-delà des aptitudes disciplinaires, les compétences professionnelles transversales essentielles à l'exercice du métier d'enseignant. De manière générale, les candidats ont bien appréhendé le format de cette épreuve mais elle semble insuffisamment préparée pour un nombre significatif d'entre eux.

• **Présentation (1^{ère} partie)**

La présentation de cinq minutes par le candidat des éléments de son parcours et des expériences qui l'ont conduit à se présenter au concours en valorisant ses travaux de recherche, les enseignements suivis, les stages, l'engagement associatif ou les périodes de formation à l'étranger, a permis au jury de rapidement cerner certains traits de sa personnalité, et de comprendre les motivations qui l'ont poussé à présenter le CAPET-CAFEP SII ainsi que le choix de l'option. Il est attendu qu'il montre les liens entre les compétences acquises durant son parcours et celles nécessaires pour enseigner dans le secondaire. Les motivations doivent être clairement explicitées. Il est intéressant de comprendre comment le projet de devenir enseignant s'est construit au fil du temps et pas uniquement sur une envie de transmettre. Même s'il est plus rassurant d'apprendre cette première phase par cœur, le jury apprécie la spontanéité des candidats. Quelques candidats n'ont pas utilisé la totalité des cinq minutes, faute d'arguments.

L'échange de dix minutes avec le jury permet ensuite au candidat d'apporter des précisions et de compléter les éléments énoncés durant sa présentation.

Le jury a apprécié :

- l'enthousiasme du candidat et le dynamisme du discours pour présenter son envie de devenir enseignant ;
- la capacité du candidat à se projeter dans la fonction en juxtaposant sa vision du métier d'enseignant (tenants et aboutissants des missions d'un enseignant) avec ses compétences acquises et transférables, l'idée étant « voici ce qui me laisse penser que je dispose des premiers outils nécessaires à une bonne prise de fonction » ;
- la mise en valeur des expériences multiples (animation, enseignement, différents métiers, ..) ;
- ses connaissances du milieu dans lequel il va évoluer, les principaux acteurs, le rôle et mission de chacun, les instances, leurs participants et les typologies des décisions ;
- les fiches individuelles de renseignements complétées avec précision et indiquant les expériences d'enseignement et les expériences professionnelles dans le secteur industriel ;
- les candidats qui ne paraphrasent pas leur fiche de renseignements ;
- les candidats qui s'expriment clairement.

Afin de préparer au mieux cette introduction, le jury conseille aux candidats de connaître à minima :

- les différentes disciplines dans lesquelles ils peuvent être appelé à enseigner, de la technologie au collège, aux lycées général et technologique et aux différents STS associés à son option de concours ;
- les particularités de ces enseignements technologiques au collège, lycée et STS ;
- la structure des baccalauréats généraux et technologiques et ses différentes épreuves ;
- le fonctionnement d'un EPLE, de son équipe de direction, de la vie scolaire, des services sociaux et d'infirmerie, les différentes instances (conseil d'administration, conseil pédagogique, conseil d'enseignement, conseil de discipline, comité d'éducation à la santé et à la citoyenneté et à l'environnement, conseil de vie collégien/lycéen, ...), le règlement intérieur...
- le référentiel de compétences des enseignants, le suivi de carrière...
- les valeurs de la République ;
- les droits et devoirs des fonctionnaires.

- **Mises en situation professionnelle (2ème partie)**

Le second temps, consacré à parts égales entre une question portant sur une situation en classe et une situation hors de la classe, a été riche en discussions souvent constructives. Le jury a constaté avec satisfaction que les situations professionnelles sont, dans l'ensemble, bien comprises par les candidats. Le traitement instantané du problème rencontré dans les différentes situations qu'elles soient de l'ordre de l'enseignement ou de la vie scolaire est en général plutôt bien appréhendé. Il est noté qu'il a été souvent plus aisé pour les candidats d'analyser la situation en classe que de se projeter dans une situation relevant de la vie scolaire. Les réponses apportées démontrent, pour la plupart, du bon sens et du pragmatisme des candidats.

Même lorsque le candidat ne connaissait pas en détail le système éducatif, il a souvent pu apporter des pistes de solutions cohérentes. Les valeurs de la République sont respectées et citées par les candidats. Les personnes ressources au sein de l'établissement sont souvent bien identifiées (le chef d'établissement et son adjoint, le CPE, le DDFPT, le gestionnaire, l'infirmier, l'assistant social...) et les différentes instances sont plutôt connues. Cependant, les débats atteignent rapidement leur limite lorsque le candidat n'est pas à l'aise sur les points précédents. La méconnaissance du fonctionnement d'un collège ou d'un lycée devient rapidement rédhibitoire, malgré les relances bienveillantes du jury.

Le jury a apprécié les candidats qui :

- commencent par analyser les situations au lieu de proposer directement des solutions au problème posé à court terme ;
- envisagent, lors de leur analyse, plusieurs interprétations de la situation proposée ;
- prennent de la hauteur par rapport à la situation décrite et l'analysent selon les trois temporalités demandées (à court, moyen et long termes) ;
- identifient les valeurs et principes de la République, les droits et devoirs des fonctionnaires, sous-tendus aux situations étudiées ;
- s'appuient sur tous les leviers existants dans l'établissement et hors de l'établissement pour prévenir les situations étudiées notamment en mettant en place des actions éducatives ;
- prennent pleinement la mesure de leur mission d'éducation et placent leur action personnelle au sein de celle d'une communauté éducative élargie.

Le jury conseille aux candidats de :

- s'approprier les attentes de l'épreuve lors de leur préparation au concours ;
- s'approprier le fonctionnement d'un EPLE ainsi que le rôle des différentes instances ;
- se référer aux personnes ressources de l'établissement susceptibles d'être sollicitées en fonction de la situation (psy-en, infirmier, assistant social, ...). Trop de candidats ne font appel qu'au CPE ou au chef d'établissement ;
- penser également à solliciter des acteurs extérieurs à l'établissement (associations, experts, conseillers, partenaires économiques...), notamment pour les actions à moyen ou long terme ;
- ne pas rester sur des réponses autocentrées mais de se placer dans le contexte d'un établissement scolaire ;
- prendre le recul nécessaire pour traiter la situation proposée dans le contexte décrit et de ne pas se limiter à faire référence à leur expérience (de contractuel notamment).

D. Ressources mobilisables

Le jury conseille aux candidats de s'approprier les informations données sur la nouvelle épreuve d'entretien (attendus, conseils et exemples de situations professionnelles) :

<https://www.devenirenseignant.gouv.fr/cid159421/epreuve-entretien-avec-jury.html>

Pour construire ses réponses, le candidat fait appel à l'ensemble des expériences et des connaissances dont il dispose et qu'il mobilise avec pertinence, expériences et connaissances proprement disciplinaires ou participant d'une déontologie professionnelle.

Cette déontologie professionnelle suppose au moins l'appropriation par le candidat des ressources et textes suivants :

- Les droits et obligations du fonctionnaire présentés sur le portail de la fonction publique : <https://www.fonction-publique.gouv.fr/etre-agent-public/mes-droits-et-obligations>
- Les articles L 111-1 à L 111-4 et l'article L 442-1 du [code de l'Éducation](#).
- Le vade-mecum "la laïcité à l'École" : <https://eduscol.education.fr/1618/la-laicite-l-ecole>
- Le vade-mecum "agir contre le racisme et l'antisémitisme" : <https://eduscol.education.fr/1720/agir-contre-le-racisme-et-l-antisemitisme>
- "Qu'est-ce que la laïcité ?" Une introduction par le Conseil des Sages de la laïcité - Janvier 2021. Téléchargeable sur <https://www.education.gouv.fr/le-conseil-des-sages-de-la-laicite-41537>
- Le parcours magistère "faire vivre les valeurs de la République" : <https://magistere.education.fr/f959>
- "Que sont les principes républicains ?" Une contribution du Conseil des sages de la laïcité - Juin 2021. Téléchargeable sur <https://www.education.gouv.fr/le-conseil-des-sages-de-la-laicite-41537>
- "La République à l'École", Inspection générale de l'éducation, du sport et de la recherche »
- Le site IH2EF : <https://www.ih2ef.gouv.fr/laicite-et-services-publics>

E. Résultats

Les statistiques générales pour cette épreuve sont données ci-après.

	CAPET (public) Note sur 20	CAFEP (privé) Note sur 20
Moyenne	12,16	11,58
Note maximum	19	18
Note minimale	4	3,5
Écart type	3,69	5,17